

Задачник IV (повторение)

Общая информация.....	1
Повторение Темы №1. Дамэ	3
Повторение Тем №№2, 11 – 16. Атари и захват камней.....	5
Повторение Тем №№6, 17, 25. Жизнь и смерть групп	11
Повторение Темы №7. Территория.	19
Повторение Темы №8. Начальные ходы	23
Повторение Темы №9. Соединение.....	25
Повторение Темы №10. Разрезание	27
Повторение Темы №20. Оиотоси и непрерывное атари.....	29
Повторение Темы №21. “Защёлка” – обратный удар	31
Повторение Темы №22. “Хомутик”	33
Повторение Темы №23. “Лесенка”	35
Повторение Темы №26. Сэки – обоюдная жизнь.....	37
Повторение Темы №27. Сэмзай.....	39
Решение задач в 3 хода	51

Общая информация

Правила игры

1. Правило хода

– Ход – это постановка камня на одно из пересечений вертикальных и горизонтальных линий.

– Ходы делаются по очереди!

– После совершения хода камень запрещено передвигать!

– “пас” – это тоже ход!

2. Правило захвата

– Камни, у которых нет свободных пунктов (дамэ) немедленно удаляются с игрового поля!

3. Правило

запрещенных ходов

– Запрещено делать “самоубийственные” ходы.

– Запрещено повторять позицию (правило ко).

Цель игры: набрать больше очков, чем соперник.

Очки начисляются за пункты территории, за захваченные камни.

Последовательность завершения партии:

- 1) игра останавливается, когда оба игрока пропускают ход;
- 2) определяется статус групп;
- 3) заполняются нейтральные пункты;
- 4) удаляются пленные камни;
- 5) пленные камни выставляются на территорию того же цвета;
- 6) определяется разница между суммой очков чёрных и белых.
- 7) после определения результата, игра заканчивается.

Нигири

Нигири – это розыгрыш цвета перед началом партии: один из партнёров (более старший по возрасту или разряду) берёт горсть белых камней, а его соперник должен угадать чётность, выставив на доску один или два чёрных камня. Выигравший нигири получает чёрные камни (или выбирает цвет).

Коми

В игре на равных начинают чёрные. За это право первого хода чёрные отдают компенсацию: на доске 9x9 – 0,5 очка, на доске 13x13 – 3,5 очка, на доске 19x19 – 6,5 очков.

Что нужно для игры?

Игровые фишки двух цветов.

Игровое поле с 19 вертикальными и 19 горизонтальными линиями. Для освоения основных приёмов и понятий применяются игровые поля 9x9 и 13x13

Стандартные размеры:

Диаметр камня: 21-22 мм.

Размер игрового поля 19x19: 45,5 см. x 42,4 см.

Как стать сильнее?

1. Играть в турнирах, информация о турнирах в России:

<http://gofederation.ru/>

по Интернету, популярные игровые сайты:

<http://www.gokgs.com/>,

<http://pandanet-igs.com/>,

<http://www.tygemgo.com/>.

2. Анализировать сыгранные партии.

Записи партий профессиональных игроков:

<http://igokisen.web.fc2.com/news.html>

3. Решать задачи, например, на сайте:

<https://gogameguru.com/get-better-at-go/go-problems/>

4. Изучать стандартные варианты, например, на сайте:

<http://goban.org/>.

Этикет

Перед началом партии поприветствуйте друг друга лёгким поклоном или рукопожатием.

Не разговаривайте во время партии.

Не берите камень, если не выбрали место куда его поставить.

Если же вы уже взяли камень, то завершите ход.

Камень ставьте точно на пересечение.

Не берите ход назад.

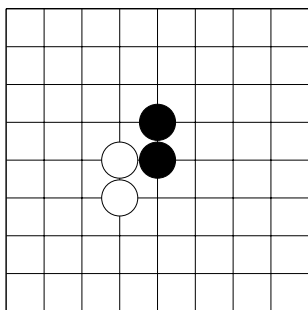
Не бряцайте камнями.

Не возите камень по доске.

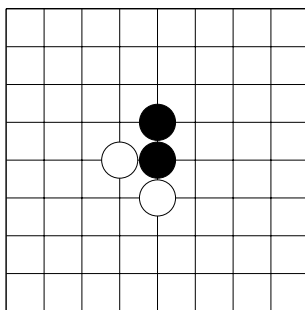
Не подсказывайте и не пользуйтесь подсказками.

После партии поблагодарите соперника за игру.

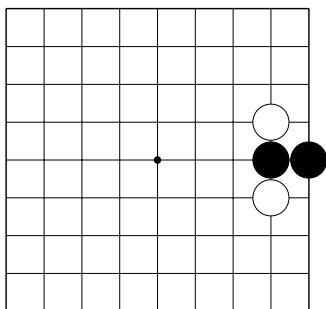
Повторение Темы №1. Дамэ.
 Сколько дамэ у чёрных камней?



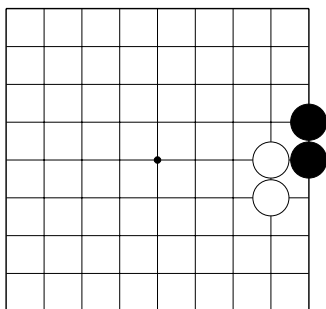
№1 ()



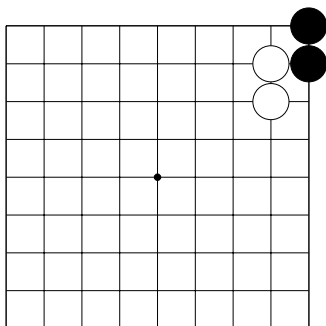
№2 ()



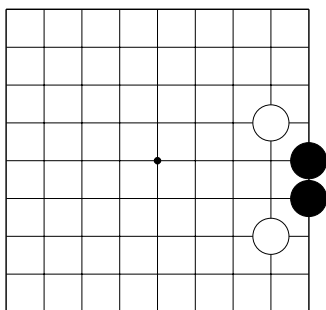
№3 ()



№4 ()

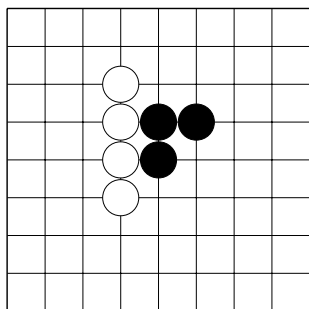


№5 ()

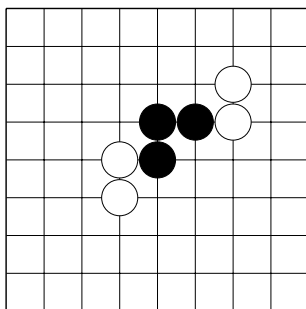


№6 ()

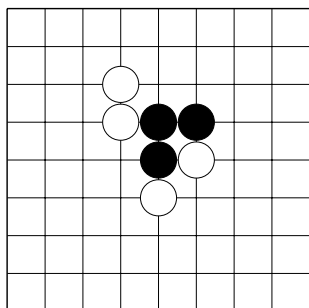
Повторение Темы №1. Дамэ.
 Сколько дамэ у чёрных камней?



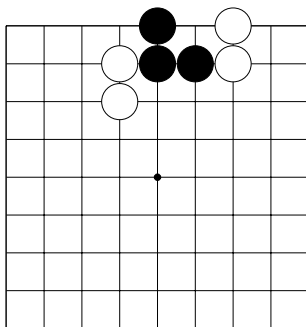
№7 ()



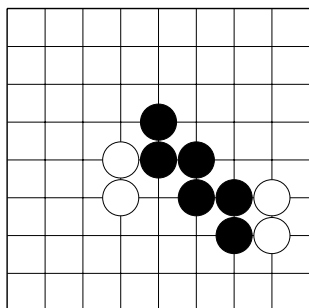
№8 ()



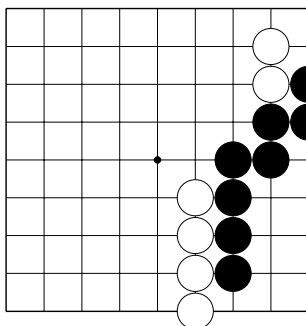
№9 ()



№10 ()

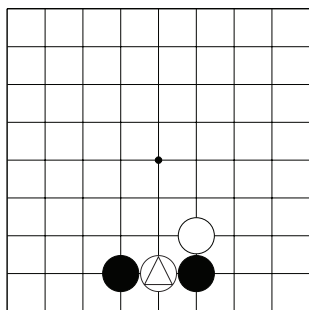


№11 ()

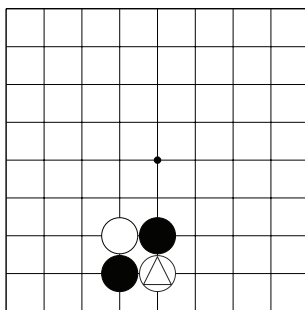


№12 ()

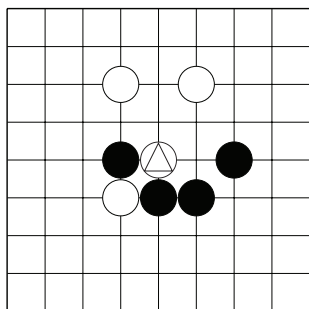
Повторение Тем №№2, 11 – 16. Атари и захват камней.
 Как нападать на отмеченные камни белых?
 Укажите только один ход.



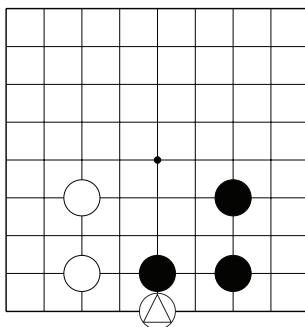
№1



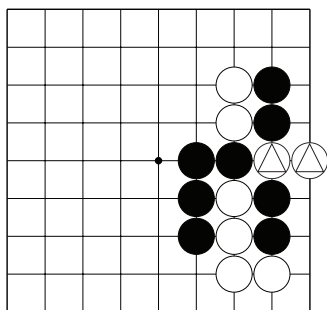
№2



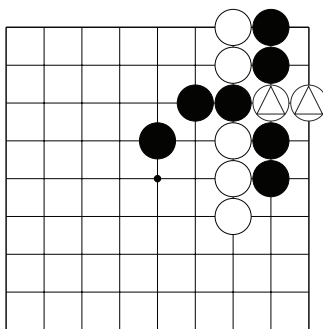
№3



№4

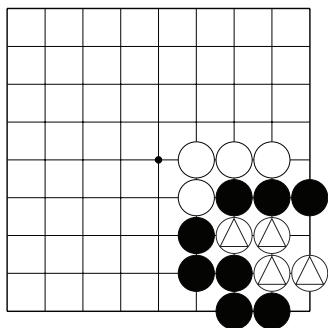


№5

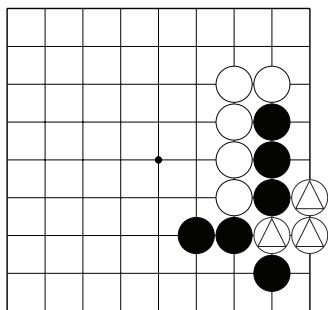


№6

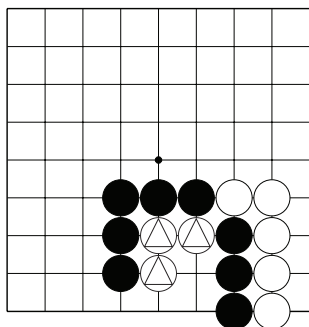
Повторение Тем №№2, 11 – 16. Атари и захват камней.
 Как нападать на отмеченные камни белых?
 Укажите только один ход.



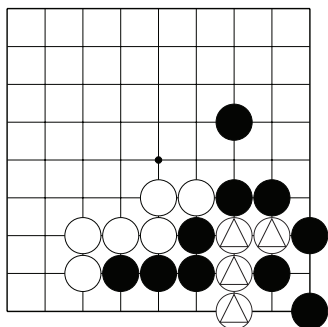
№7



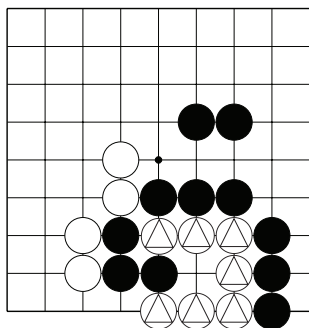
№8



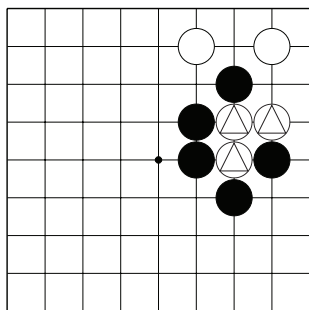
№9



№10

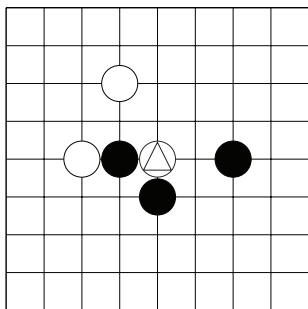


№11

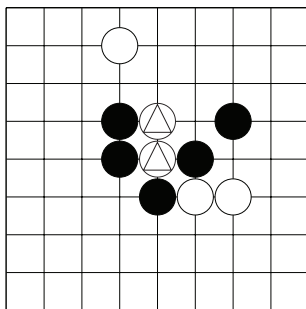


№12

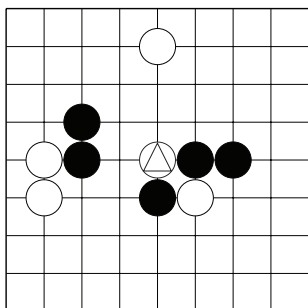
Повторение Тем №№2, 11 – 16. Атари и захват камней.
 Как нападать на отмеченные камни белых?
 Укажите только один ход.



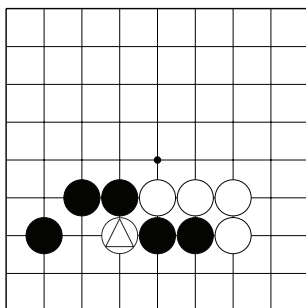
№13



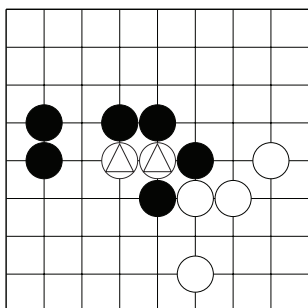
№14



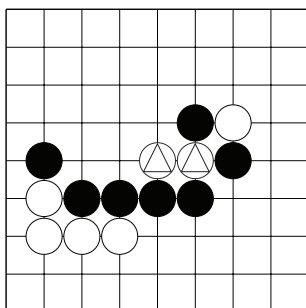
№15



№16

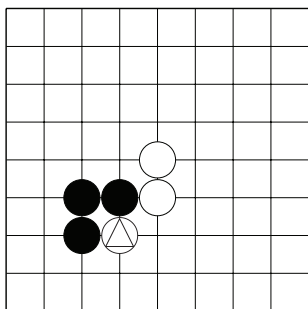


№17

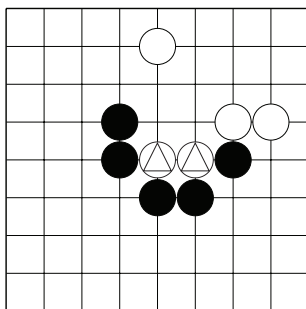


№18

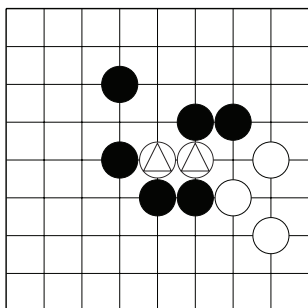
Повторение Тем №№2, 11 – 16. Атари и захват камней.
 Как напасть на отмеченные камни белых?
 Укажите только один ход.



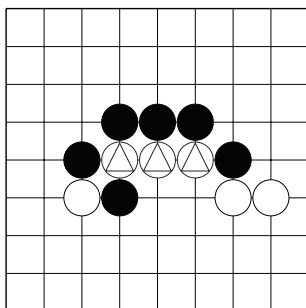
№19



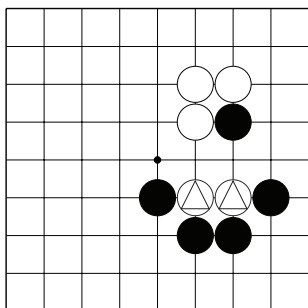
№20



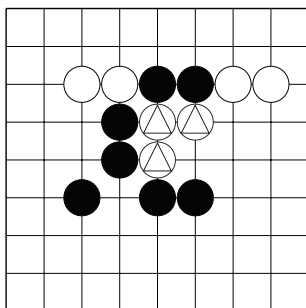
№21



№22



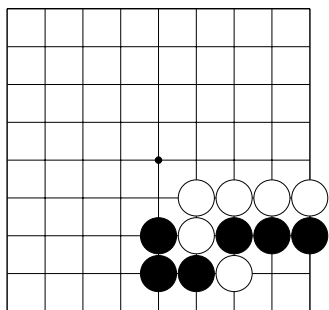
№23



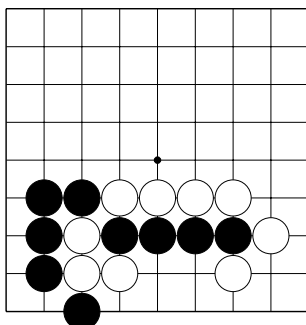
№24

Повторение Тем №№2, 11 – 16. Атари и захват камней.

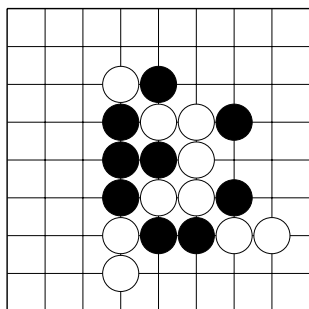
1. Выберите цель для атаки.
2. Правильно сыграйте атари.



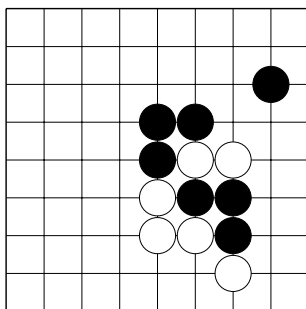
№25



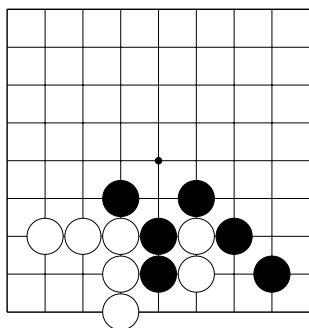
№26



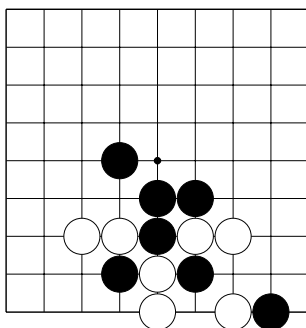
№27



№28



№29

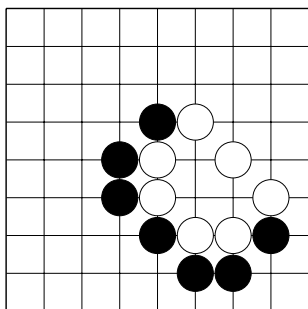


№30

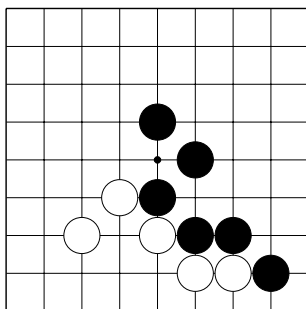
Повторение Тем №№2, 11 – 16. Атари и захват камней.

1. Выберите цель для атаки.

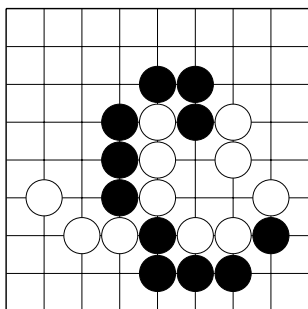
2. Правильно сыграйте атари.



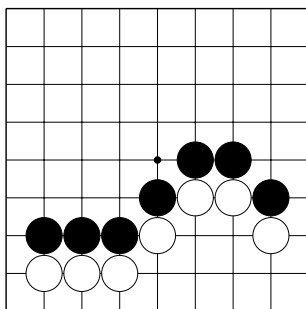
№31



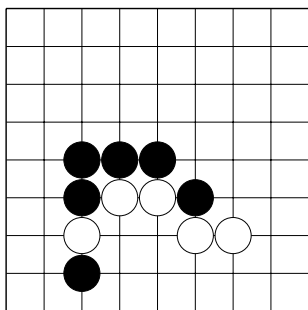
№32



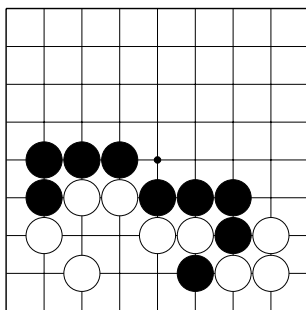
№33



№34

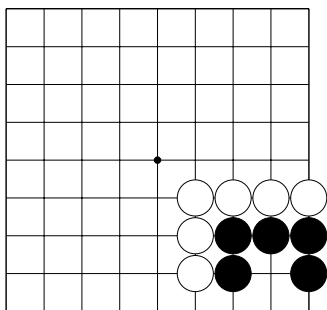


№35

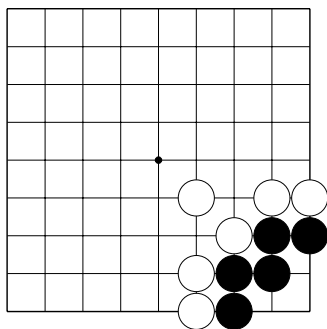


№36

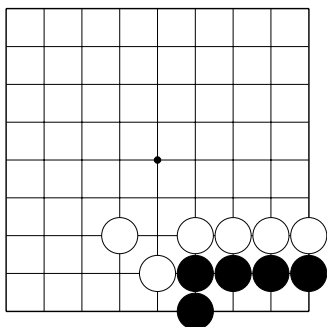
Повторение Тем №№6, 17, 25. Жизнь и смерть групп.
 Спасите группу чёрных.
 Укажите только один ход.



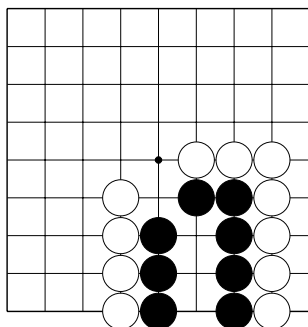
№1



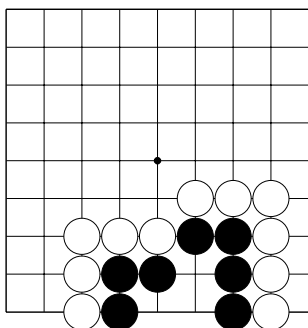
№2



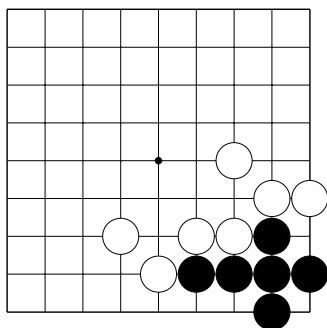
№3



№4

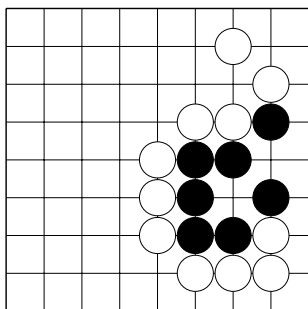


№5

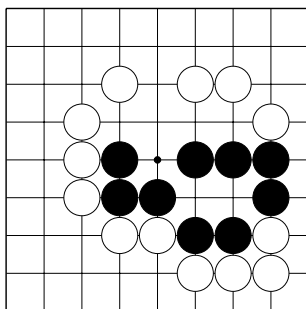


№6

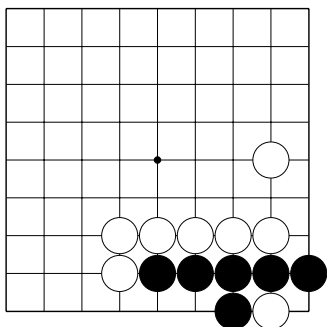
Повторение Тем №№6, 17, 25. Жизнь и смерть групп.
 Спасите группу чёрных.
 Укажите только один ход.



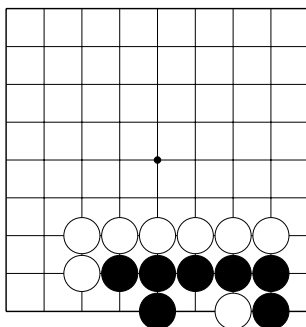
№7



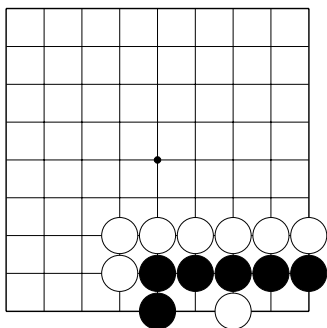
№8



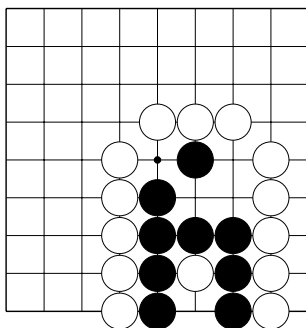
№9



№10

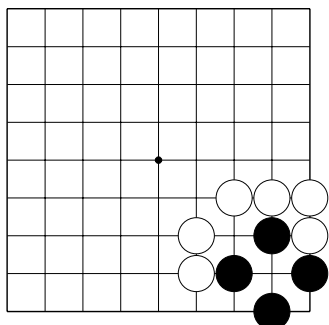


№11

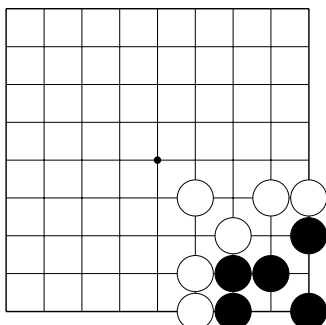


№12

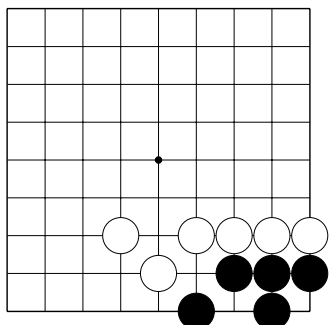
Повторение Тем №№6, 17, 25. Жизнь и смерть групп.
 Спасите группу чёрных.
 Укажите только один ход.



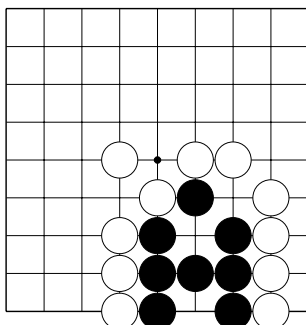
№13



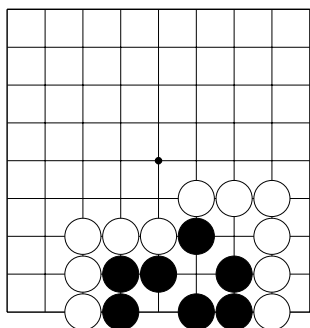
№14



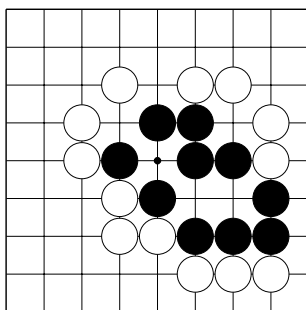
№15



№16

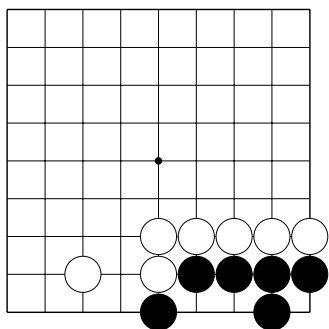


№17

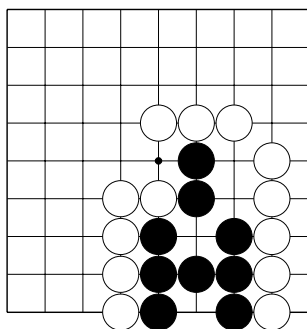


№18

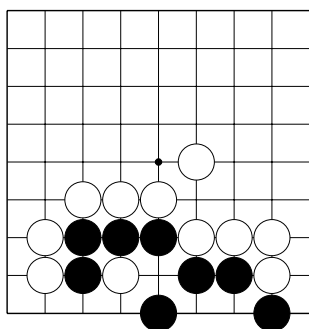
Повторение Тем №№6, 17, 25. Жизнь и смерть групп.
 Спасите группу чёрных.
 Укажите только один ход.



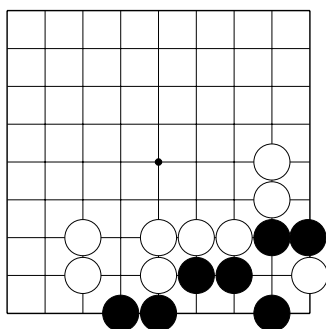
№19



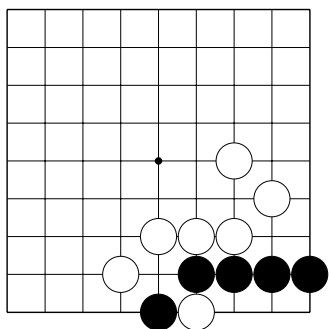
№20



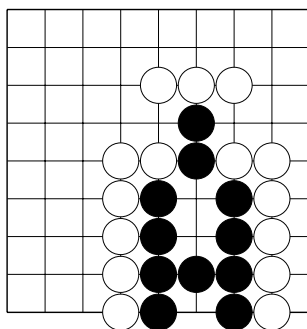
№21



№22

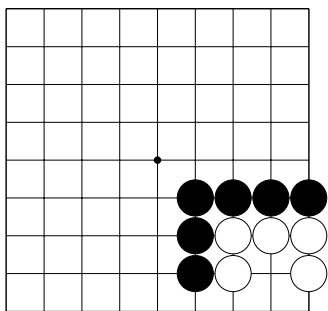


№23

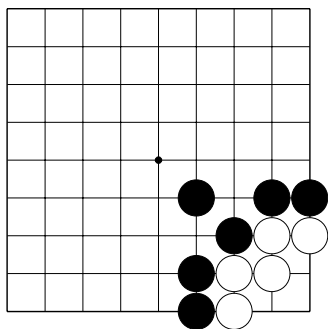


№24

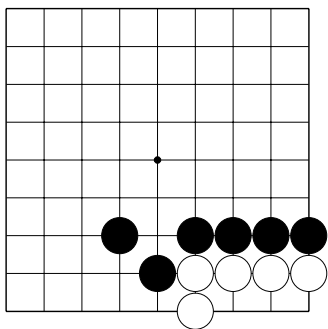
Повторение Тем №№6, 17, 25. Жизнь и смерть групп.
 Захватите группу белых.
 Укажите только один ход.



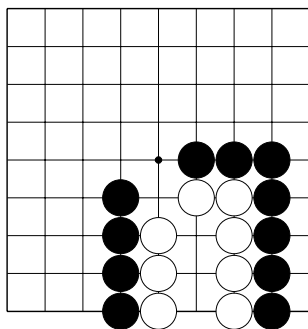
№25



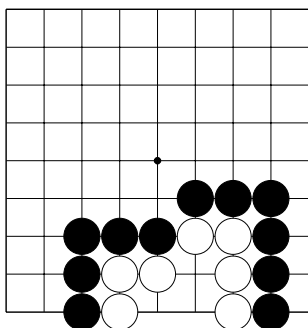
№26



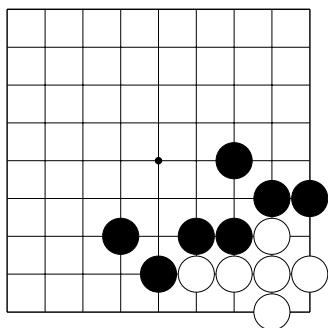
№27



№28

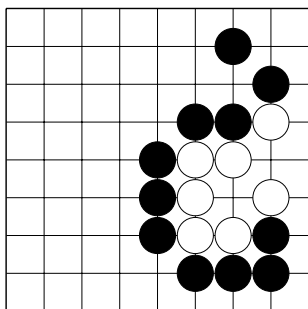


№29

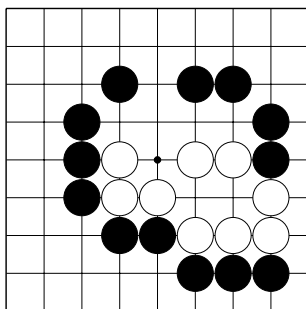


№30

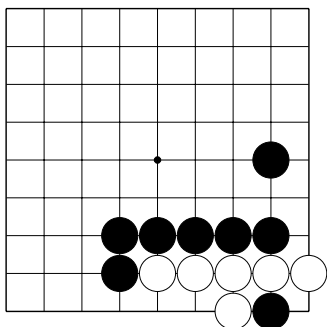
Повторение Тем №№6, 17, 25. Жизнь и смерть групп.
 Захватите группу белых.
 Укажите только один ход.



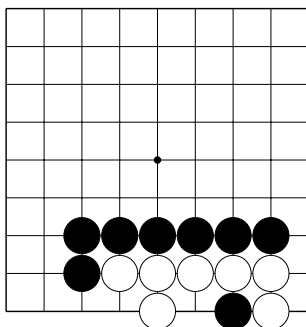
№31



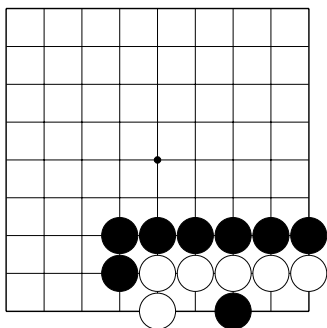
№32



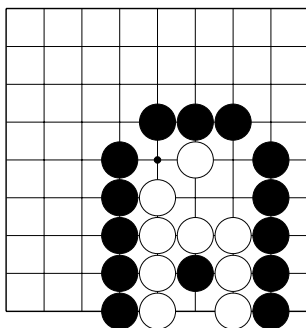
№33



№34

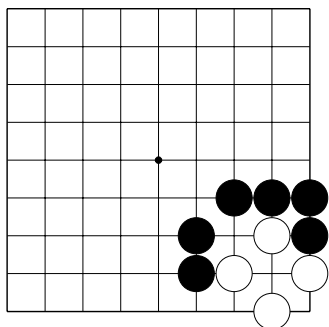


№35

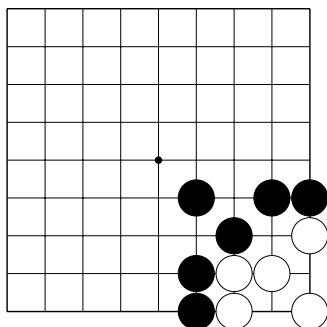


№36

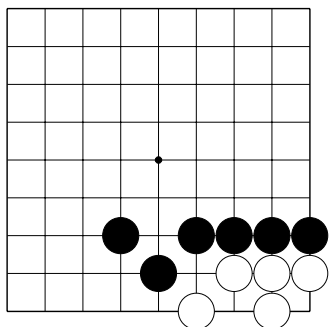
Повторение Тем №№6, 17, 25. Жизнь и смерть групп.
 Захватите группу белых.
 Укажите только один ход.



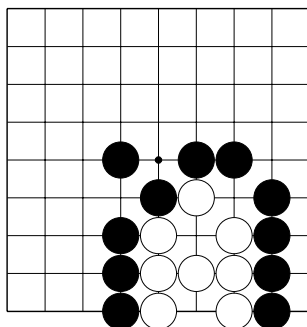
№37



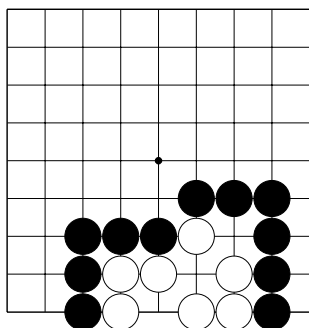
№38



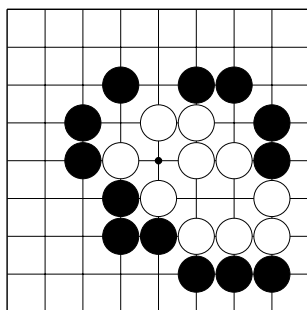
№39



№40

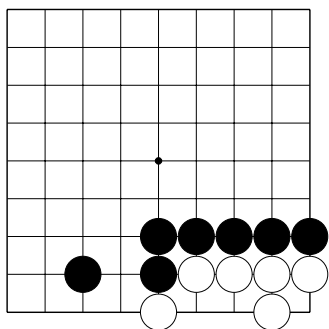


№41

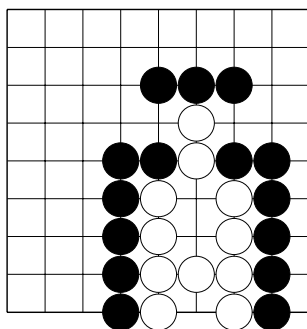


№42

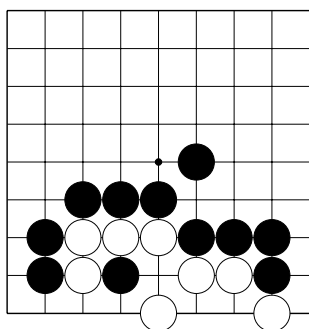
Повторение Тем №№6, 17, 25. Жизнь и смерть групп.
 Захватите группу белых.
 Укажите только один ход.



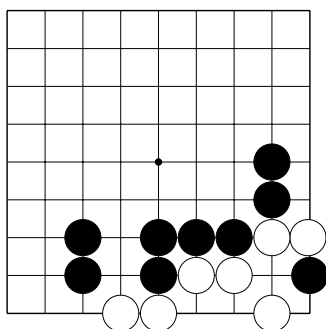
№43



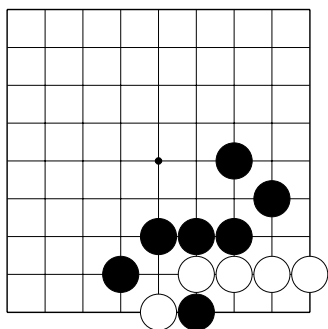
№44



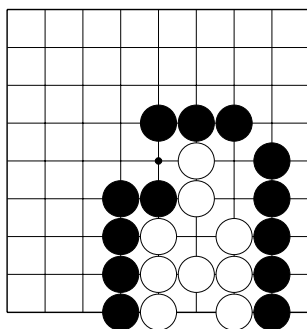
№45



№46



№47



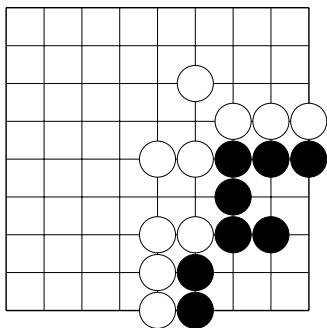
№48

Повторение Темы №7. Территория.

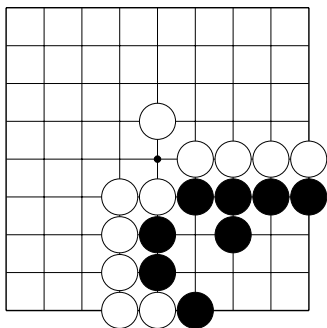
1. Найдите слабый пункт.

2. Защитите территорию чёрных.

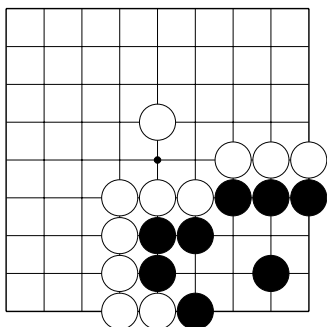
Укажите только один ход.



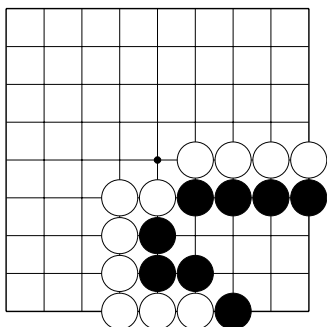
№1



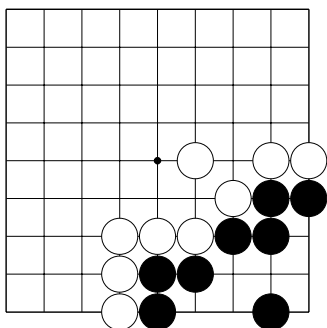
№2



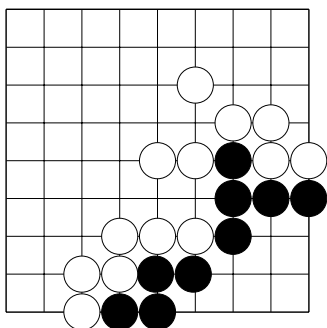
№3



№4

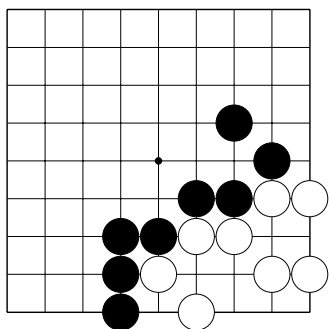


№5

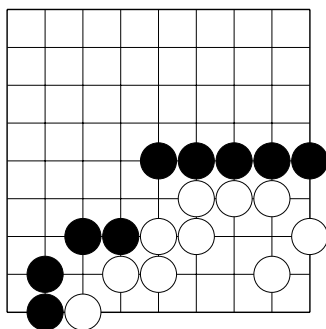


№6

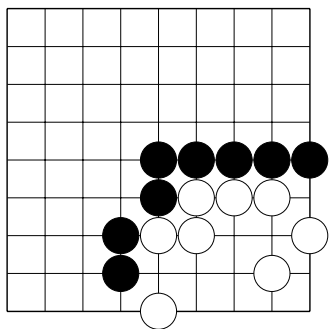
Повторение Темы №7. Территория.
 Уменьшите территорию белых.
 Укажите только один ход.



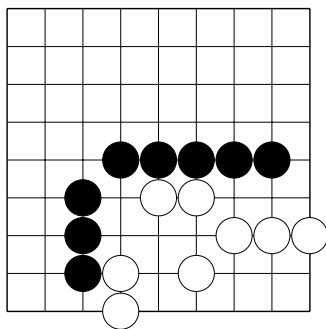
№7



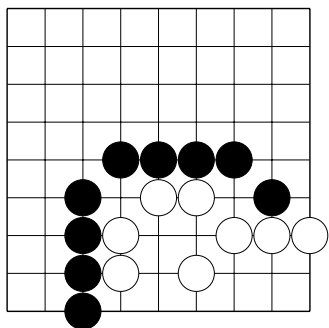
№8



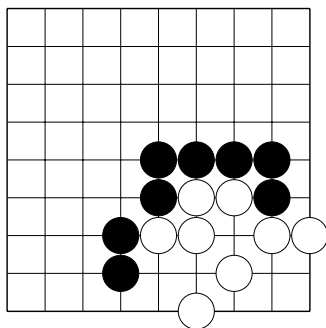
№9



№10



№11

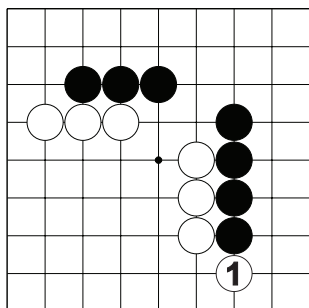


№12

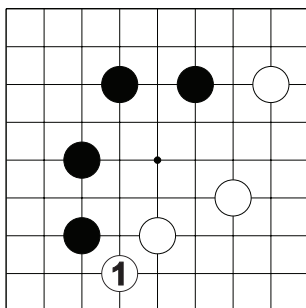
Повторение Темы №7. Территория.

Как ответить на ход б.1, чтобы защитить территорию чёрных.

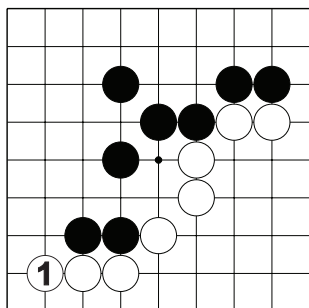
Укажите только один ход.



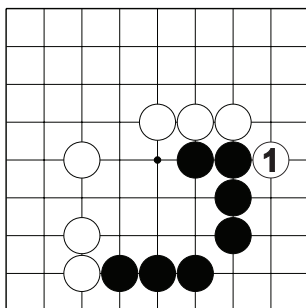
№13



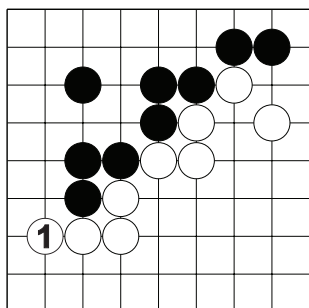
№14



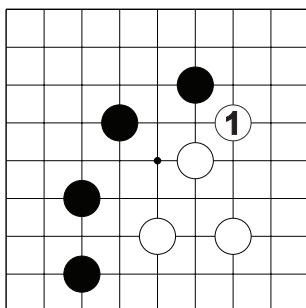
№15



№16

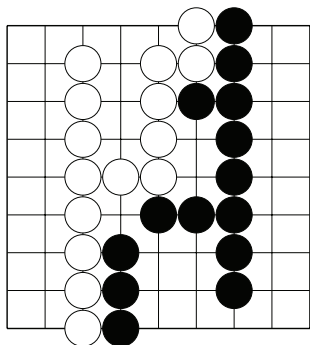


№17

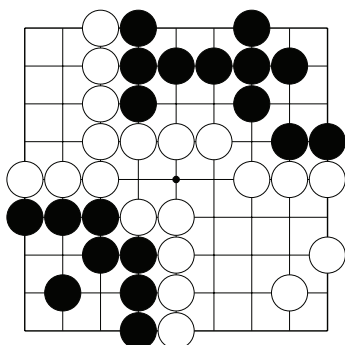


№18

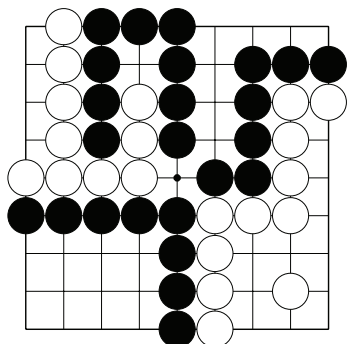
Повторение Темы №7. Территория.
Найдите и отметьте нейтральные пункты.



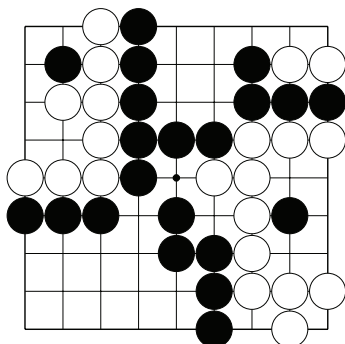
№19



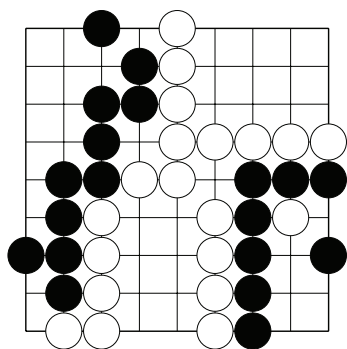
№20



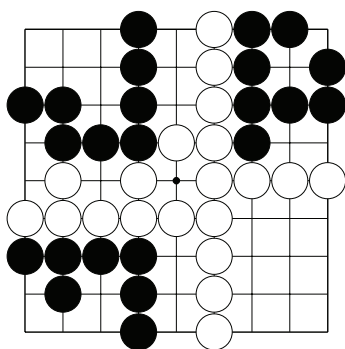
№21



№22



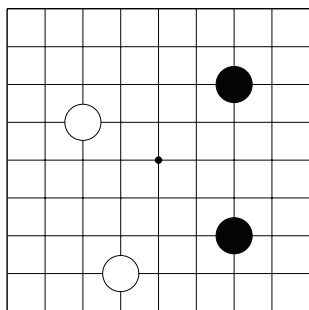
№23



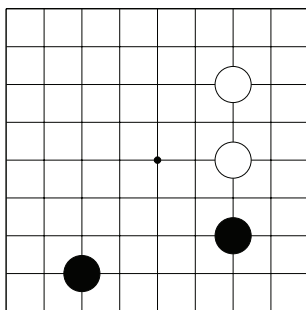
№24

Повторение Темы №8. Начальные ходы.

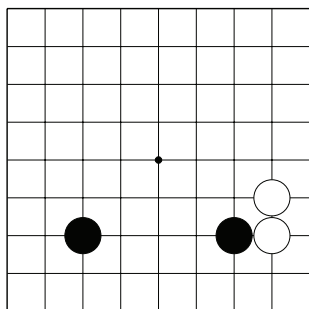
В начале партии камни нужно ставить не ниже третьей линии!
Кто сыграл лучше? Чёрные или белые?



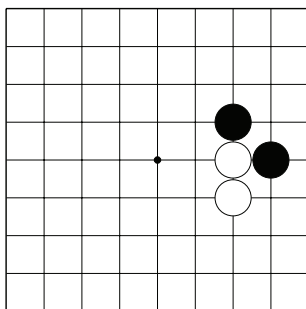
№1



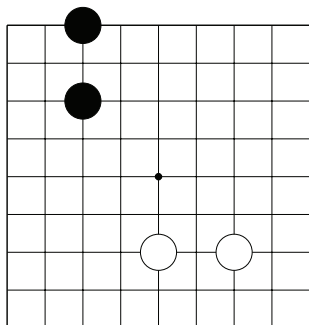
№2



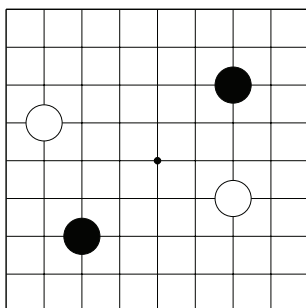
№3



№4

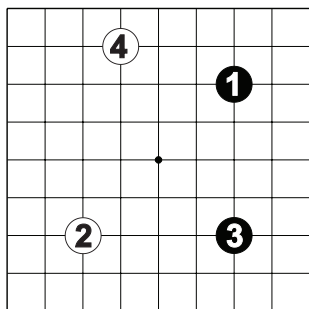


№5

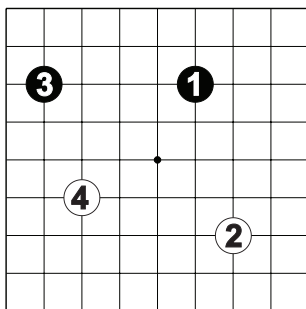


№6

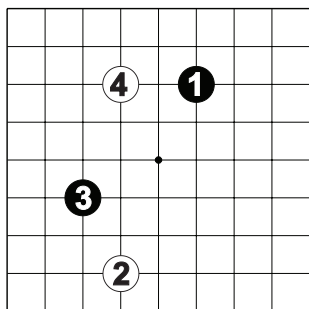
Повторение Темы №8. Начальные ходы.
 Найдите плохие ходы для начала партии.



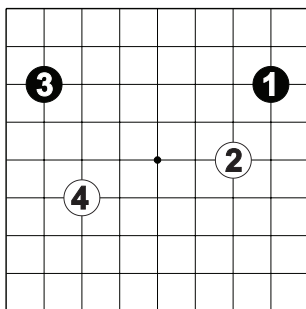
№7



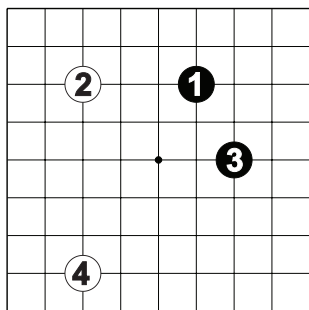
№8



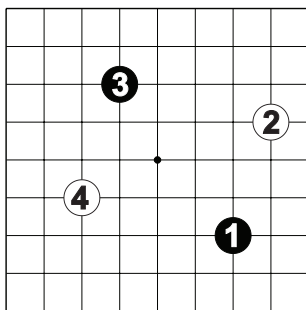
№9



№10

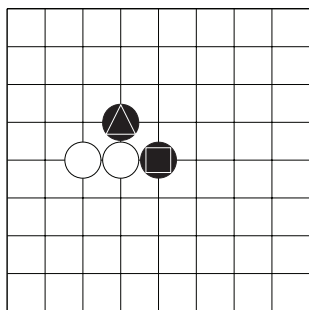


№11

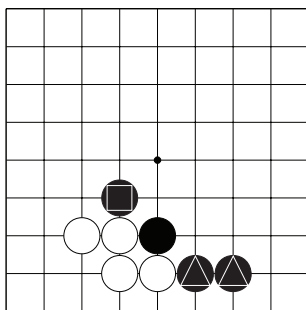


№12

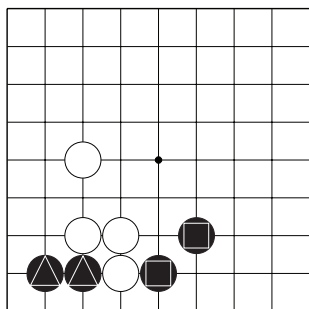
Повторение Темы №9. Соединение.
 Соедините отмеченные камни чёрных.
 Укажите только один ход.



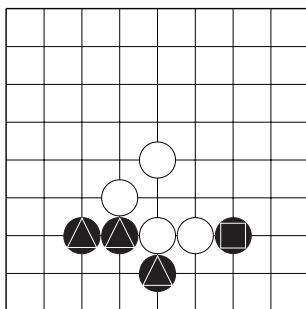
№1



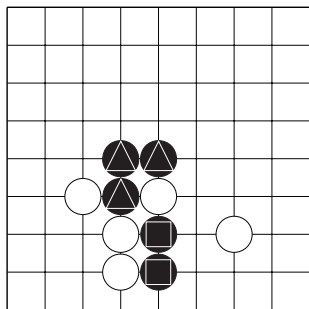
№2



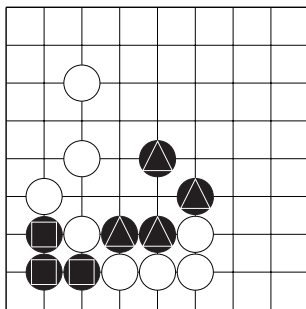
№3



№4

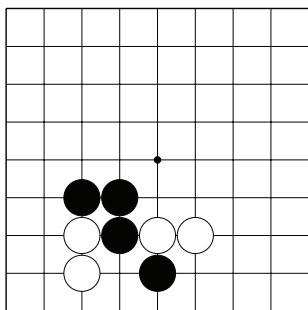


№5

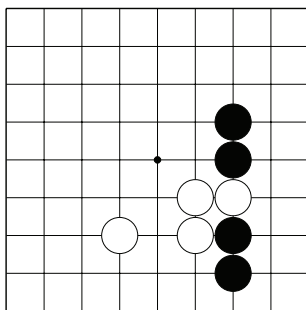


№6

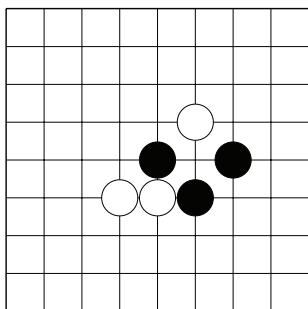
Повторение Темы №9. Соединение.
 Соедините камни чёрных.
 Укажите только один ход.



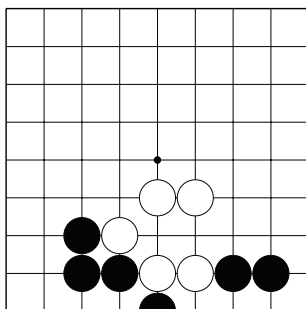
№7



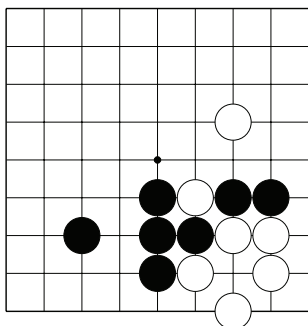
№8



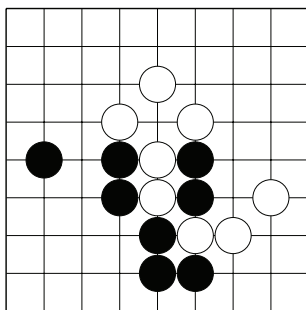
№9



№10

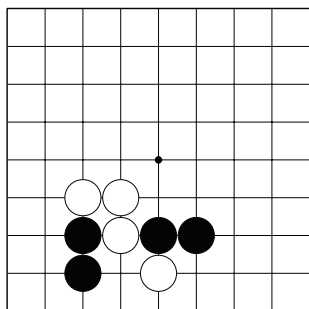


№11

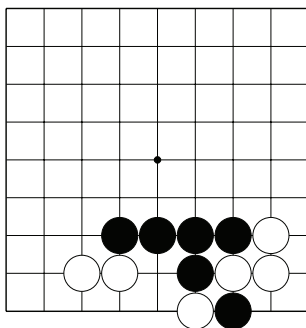


№12

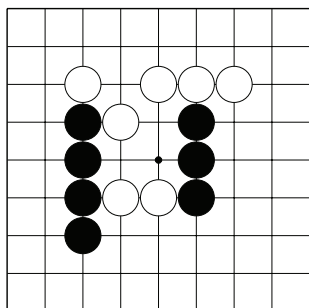
Повторение Темы №10. Разрезание.
 Разрежьте камни белых.
 Укажите только один ход.



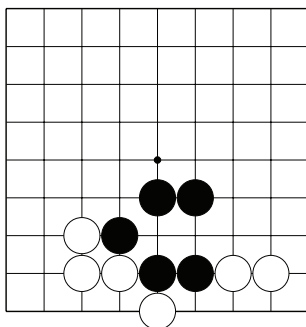
№7



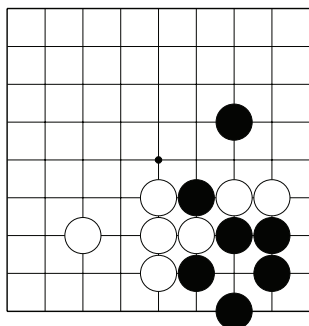
№8



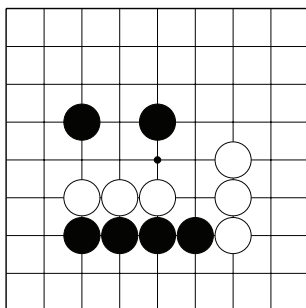
№9



№10

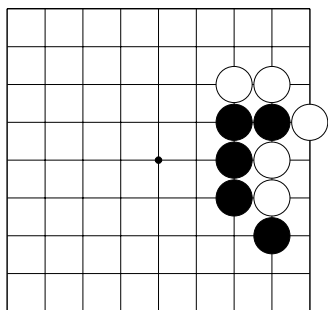


№11

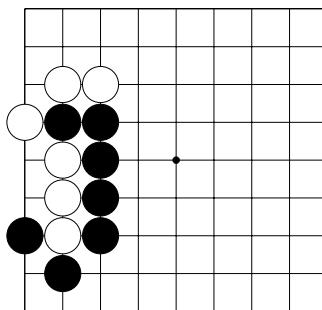


№12

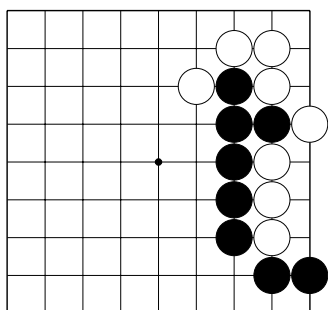
Повторение Темы №20. Оиотоси и непрерывное атари.
 Захватите камни белых.
 Укажите только один ход.



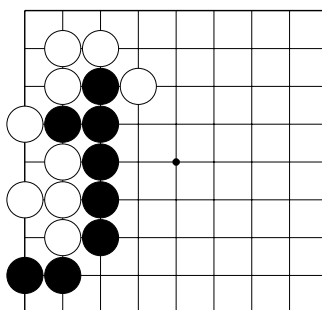
№1



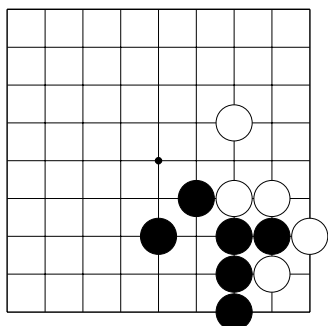
№2



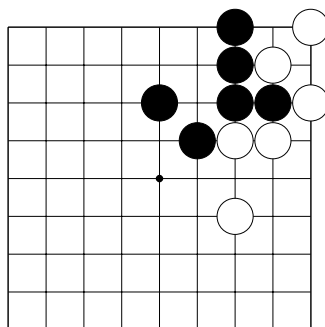
№3



№4

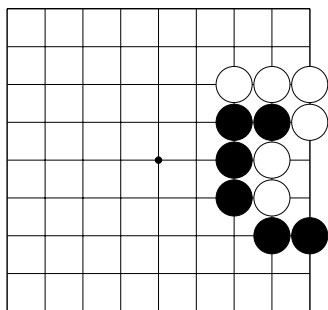


№5

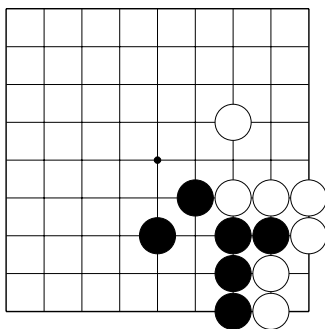


№6

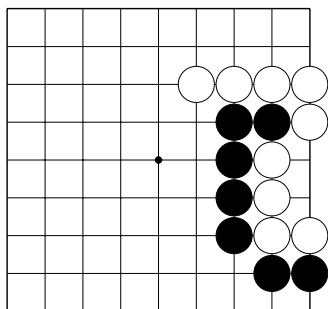
Повторение Темы №21. “Защёлка” – обратный удар.
 Захватите камни белых.
 Укажите только один ход.



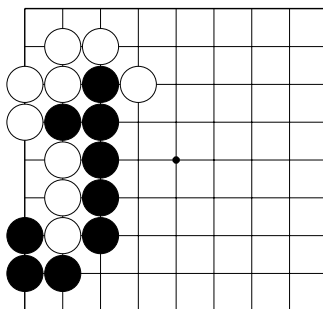
№1



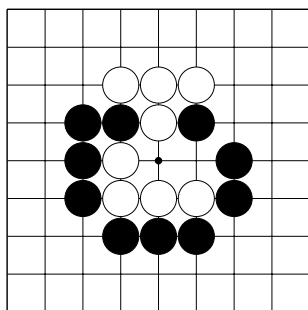
№2



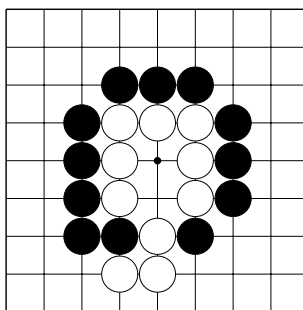
№3



№4

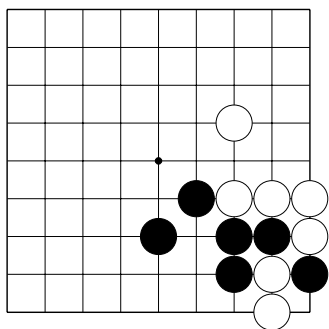


№5

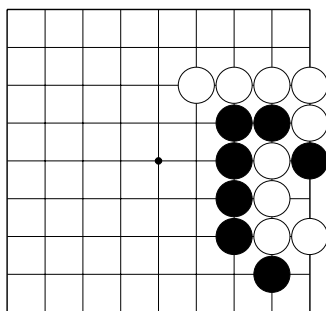


№6

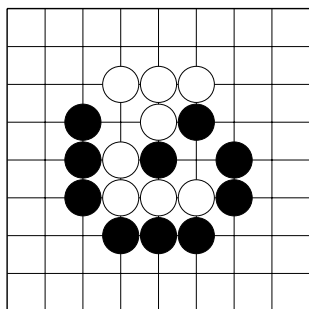
Повторение Темы №21. “Защёлка” – обратный удар.
 Захватите камни белых.
 Укажите только один ход.



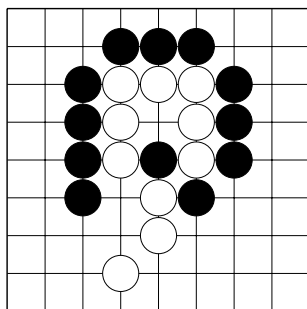
№7



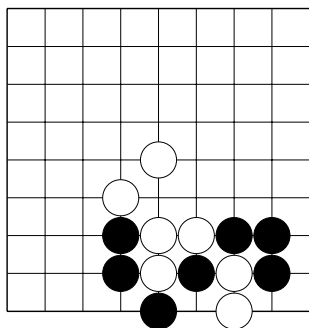
№8



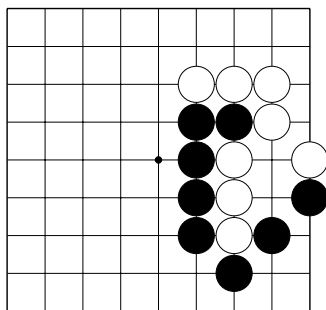
№9



№10



№11

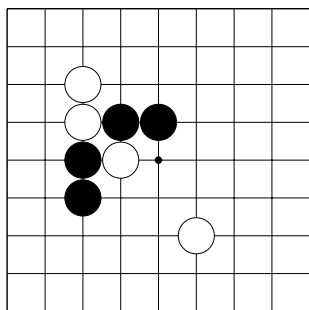


№12

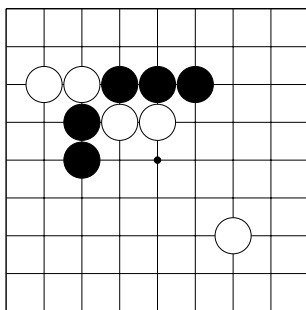
Повторение Темы №22. “Хомутик”.

Захватите камни белых.

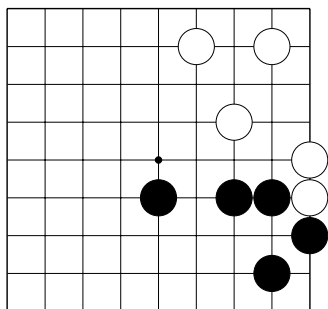
Укажите только один ход.



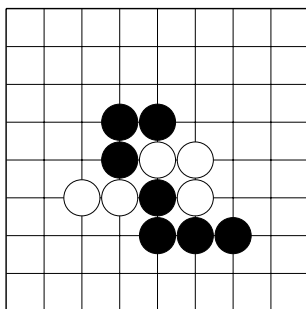
№1



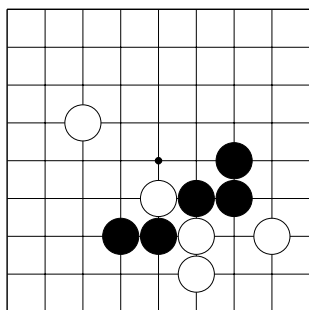
№2



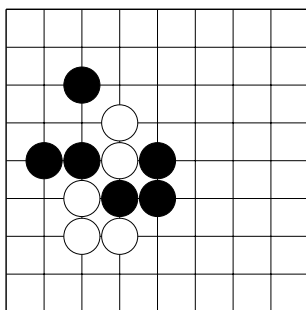
№3



№4



№5

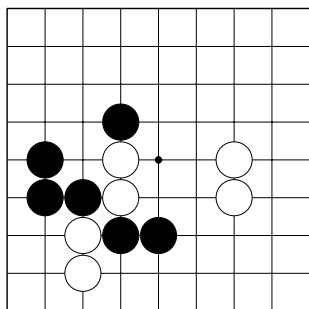


№6

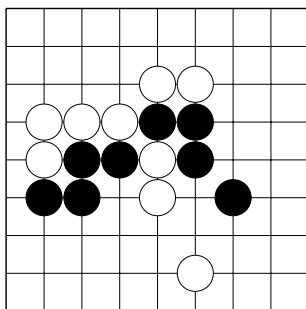
Повторение Темы №22. “Хомутик”.

Захватите камни белых.

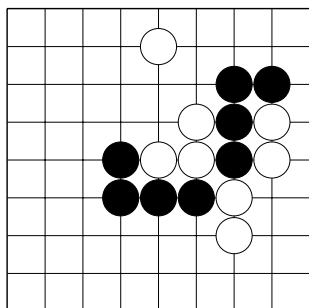
Укажите только один ход.



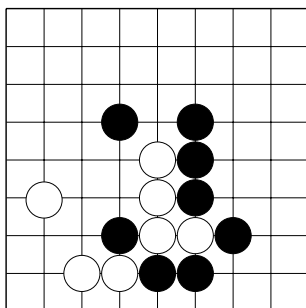
№7



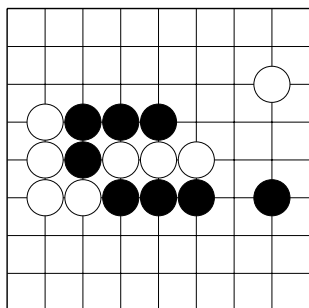
№8



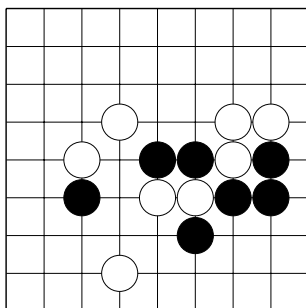
№9



№10



№11

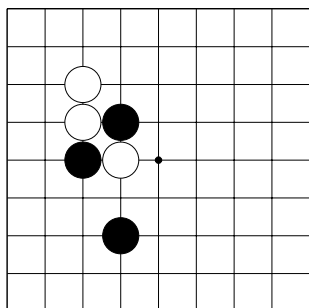


№12

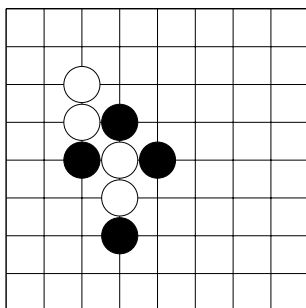
Повторение Темы №23. “Лесенка”.

Захватите камни белых.

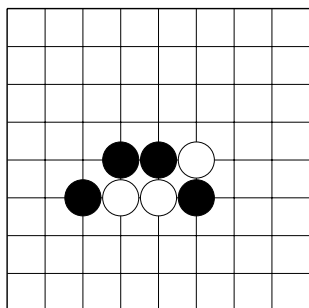
Укажите только один ход.



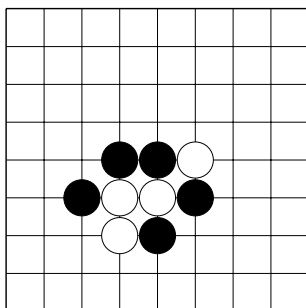
№1



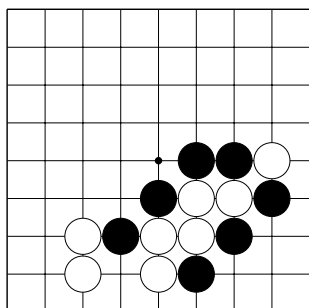
№2



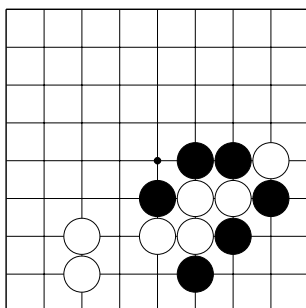
№3



№4



№5

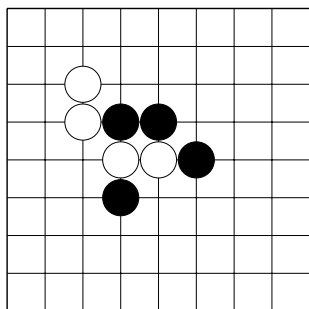


№6

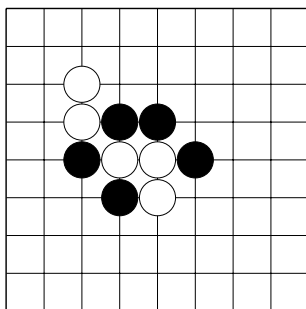
Повторение Темы №23. “Лесенка”.

Захватите камни белых.

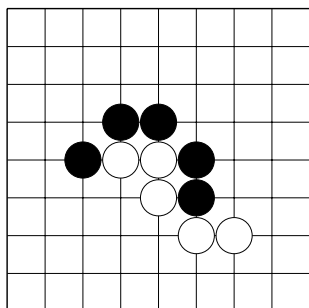
Укажите только один ход.



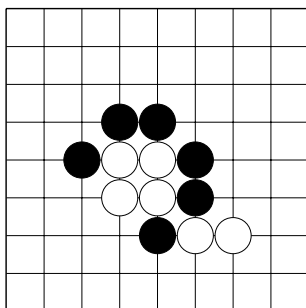
№7



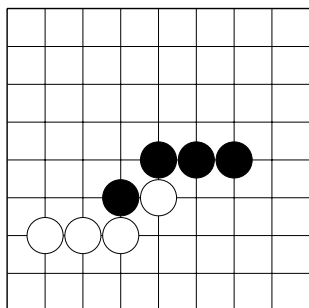
№8



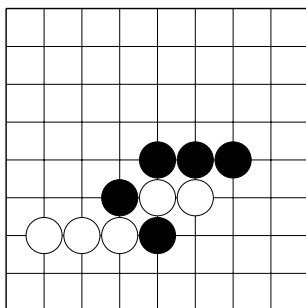
№9



№10

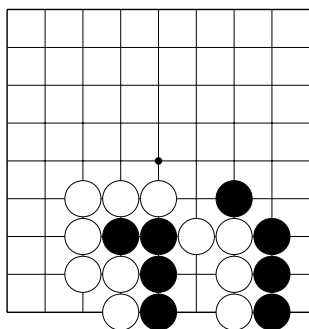


№11

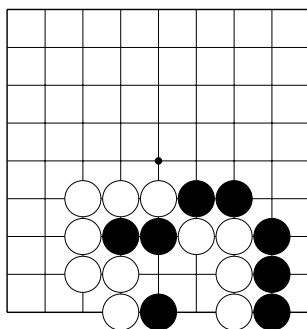


№12

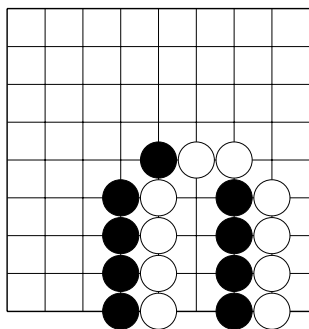
Повторение Темы №26. Сэки – обоюдная жизнь.
 Укажите только один ход.



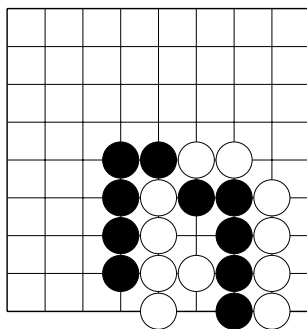
№7



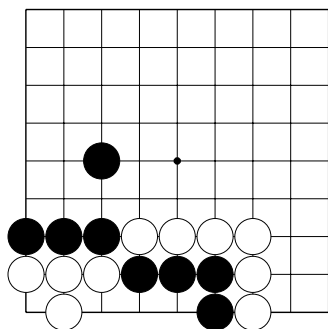
№8



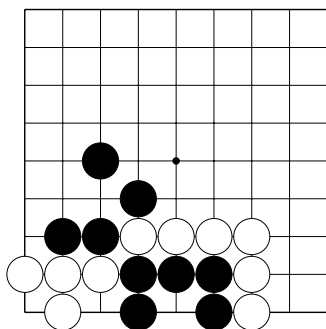
№9



№10



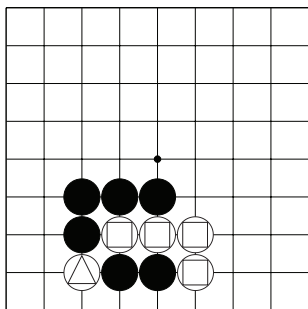
№11



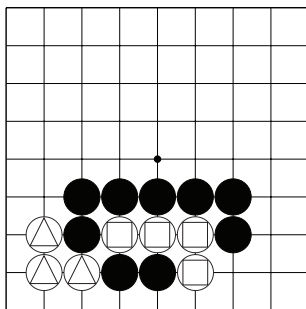
№12

Повторение Темы №27. Сэмэй.

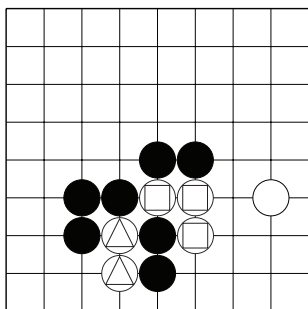
1. Сколько дамэ у отмеченных белых камней?



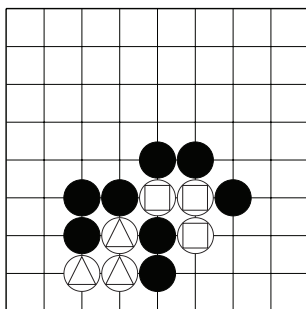
№1 (△ - , ◻ -)



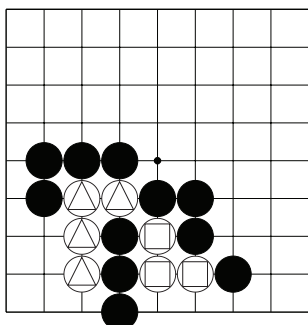
№2 (△ - , ◻ -)



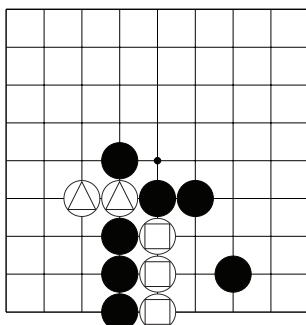
№3 (△ - , ◻ -)



№4 (△ - , ◻ -)



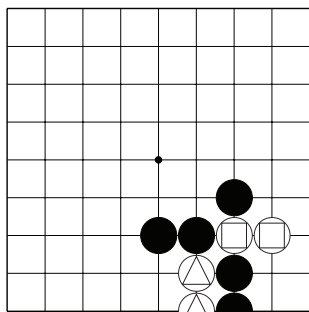
№5 (△ - , ◻ -)



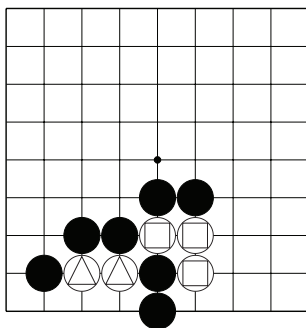
№6 (△ - , ◻ -)

Повторение Темы №27. Сэмэй.

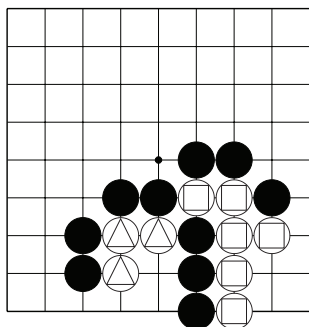
1. Сколько дамэ у отмеченных белых камней?



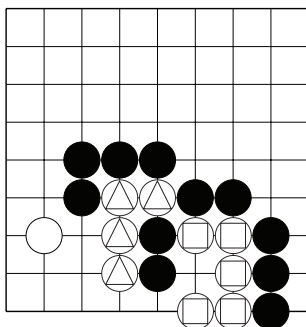
№7 (△ - , □ -)



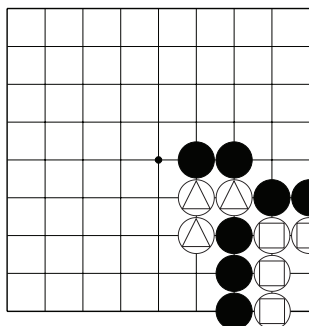
№8 (△ - , □ -)



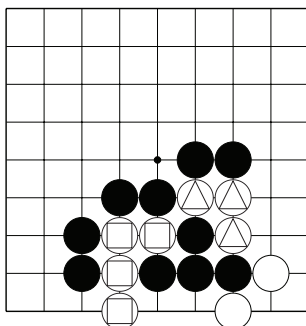
№9 (△ - , □ -)



№10 (△ - , □ -)

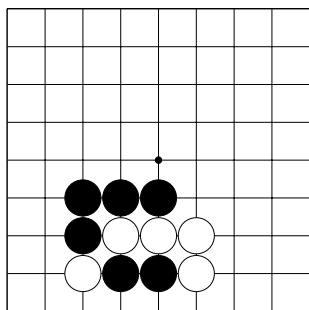


№11 (△ - , □ -)

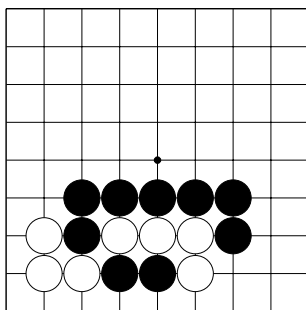


№12 (△ - , □ -)

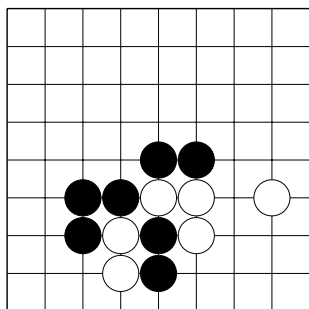
Повторение Темы №27. Сэмэй.
Найдите лучший ход чёрных.



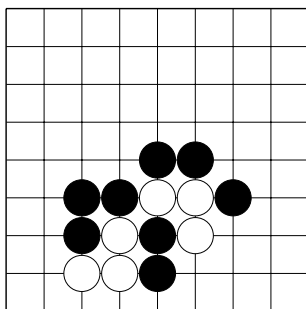
№13



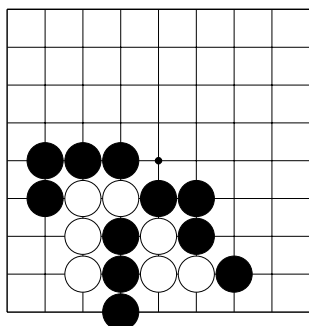
№14



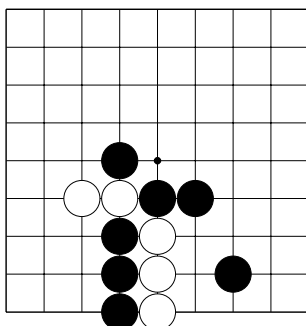
№15



№16

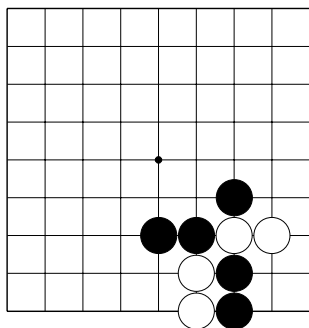


№17

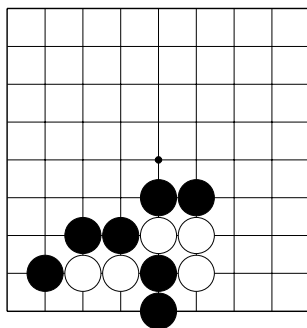


№18

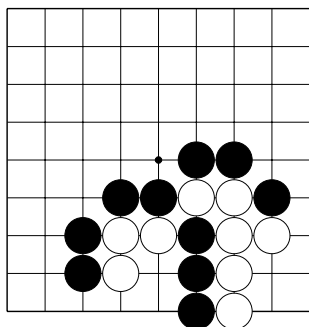
Повторение Темы №27. Сэмэй.
Найдите лучший ход чёрных.



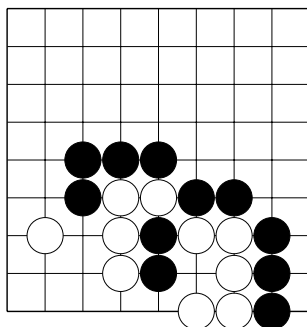
№19



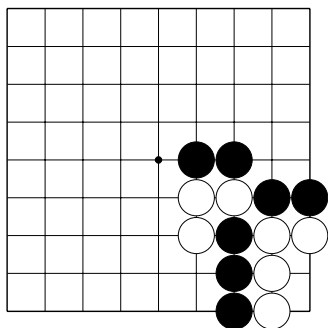
№20



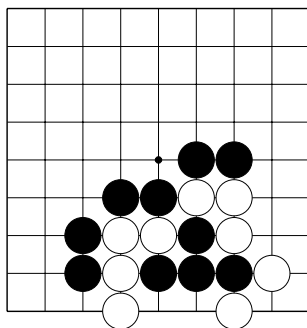
№21



№22



№23

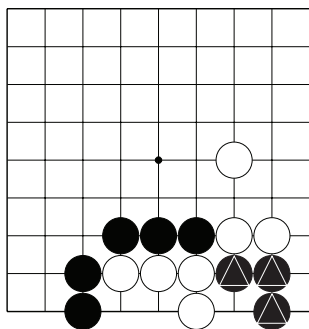


№24

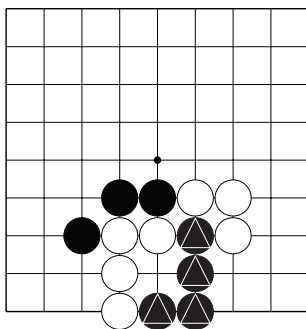
Повторение Темы №27. Сэмэй.

1. С какими белыми камнями сэмэй?

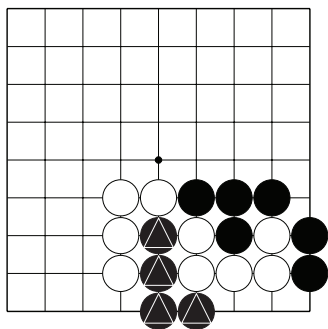
2. Отметьте внешние дамэ отмеченных чёрных камней.



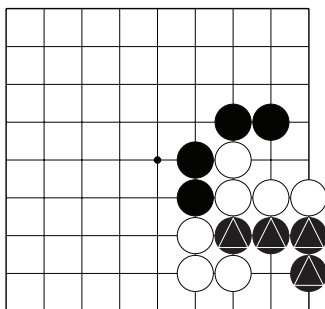
№25



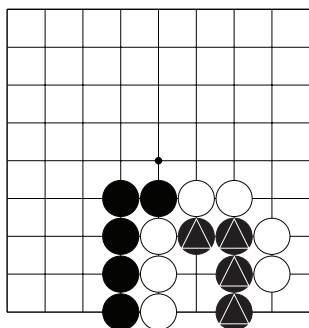
№26



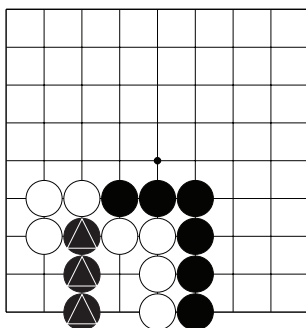
№27



№28



№29

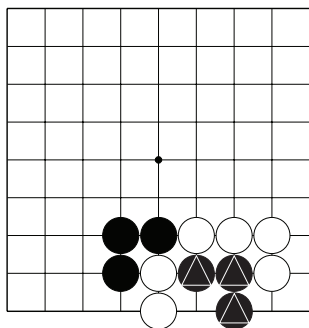


№30

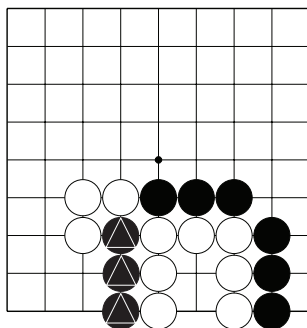
Повторение Темы №27. Сэмэй.

1. С какими белыми камнями сэмэй?

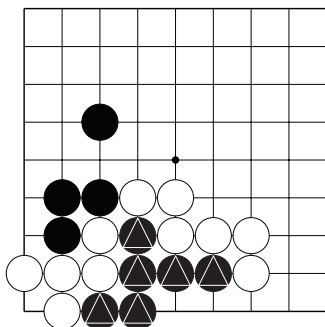
2. Отметьте внешние дамэ отмеченных чёрных камней.



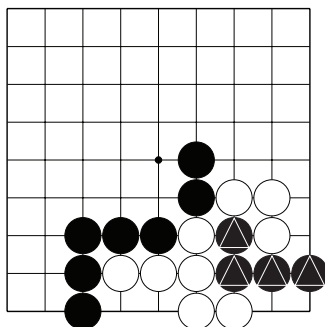
№31



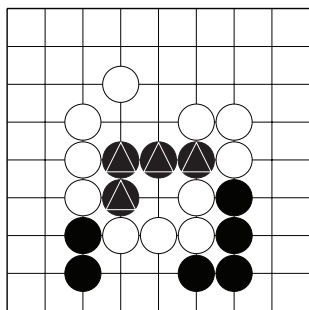
№32



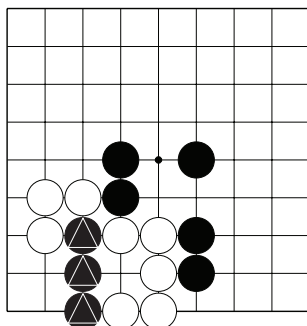
№33



№34

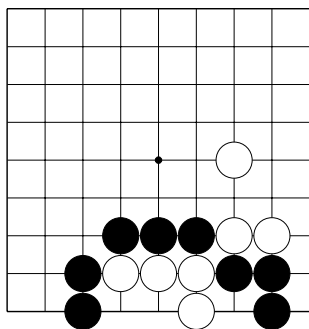


№35

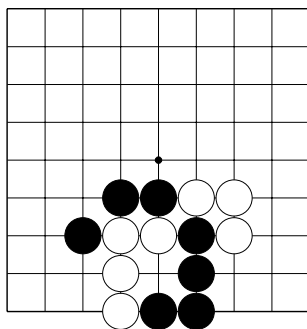


№36

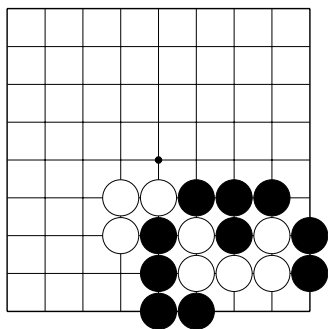
Повторение Темы №27. Сэмэй.
Найдите лучший ход чёрных.



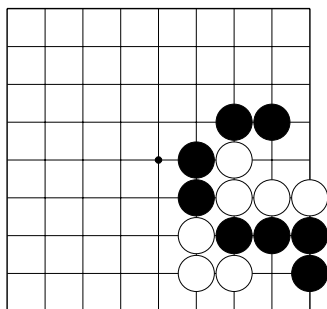
№37



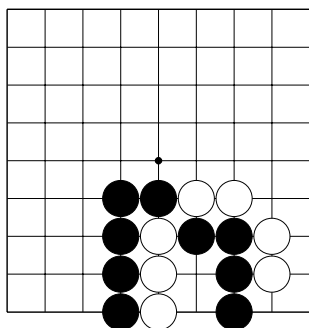
№38



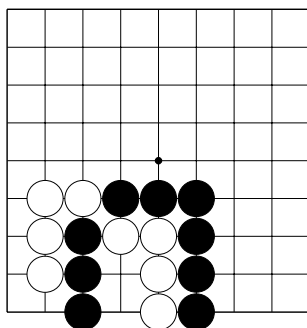
№39



№40

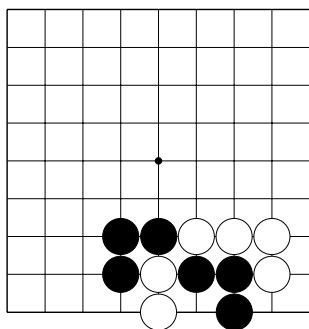


№41

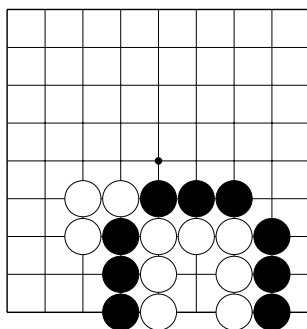


№42

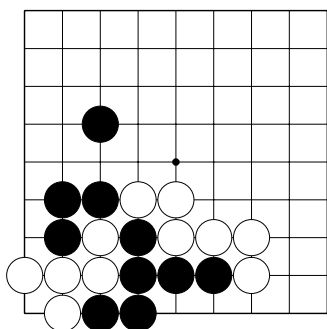
Повторение Темы №27. Сэмэй.
Найдите лучший ход чёрных.



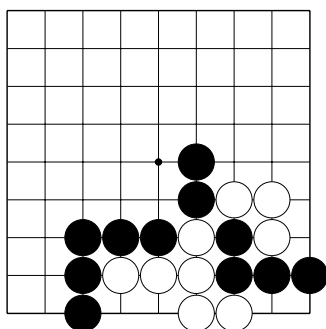
№43



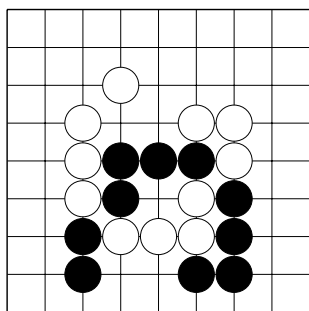
№44



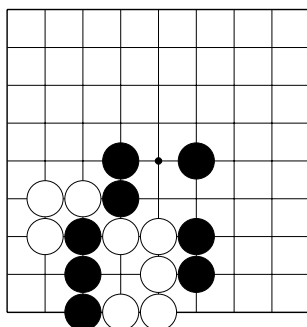
№45



№46

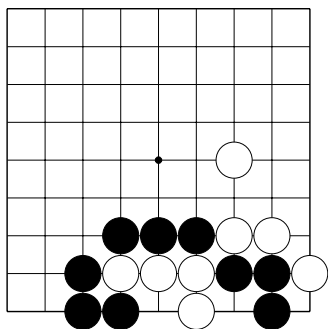


№47

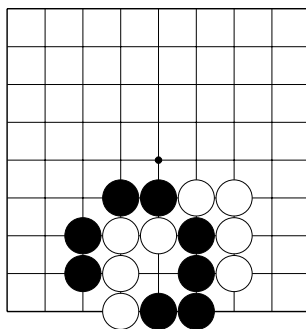


№48

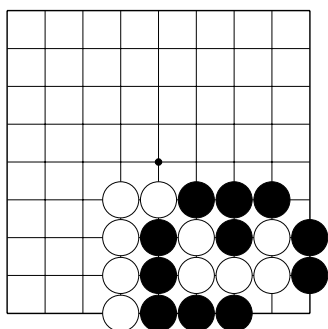
Повторение Темы №27. Сэмэй.
Найдите лучший ход чёрных.



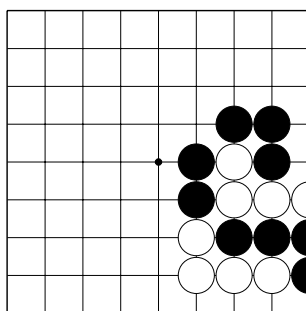
№49



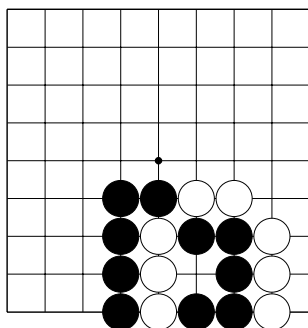
№50



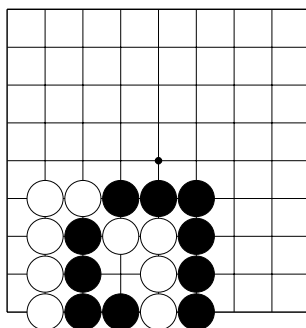
№51



№52

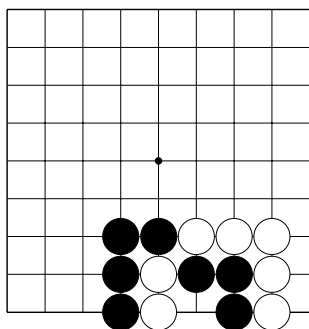


№53

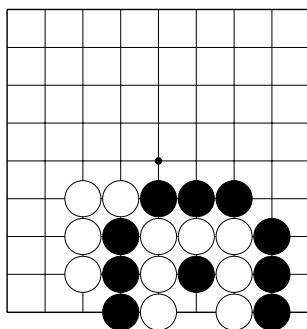


№54

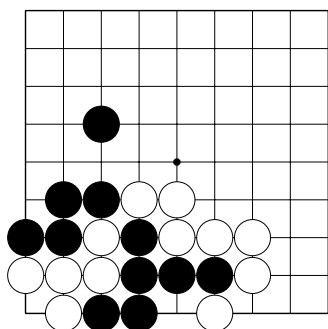
Повторение Темы №27. Сэмэй.
Найдите лучший ход чёрных.



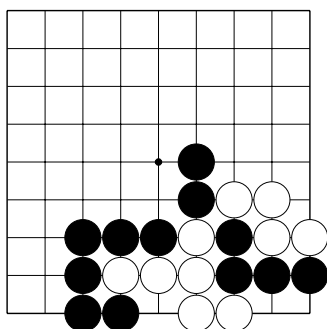
№55



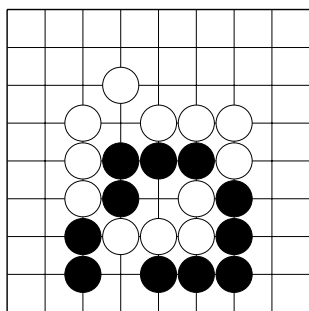
№56



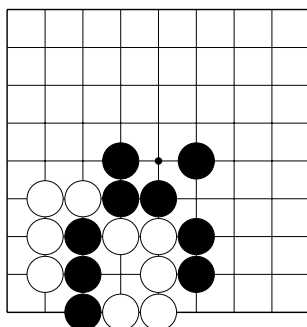
№57



№58

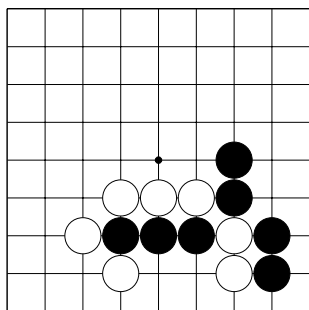


№59

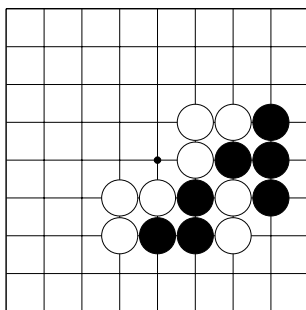


№60

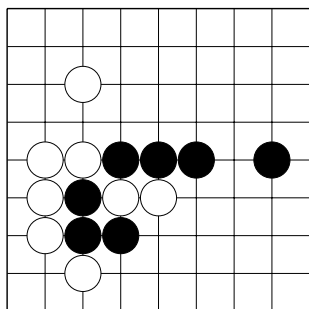
Повторение Темы №27. Сэмэй.
Найдите лучший ход чёрных.



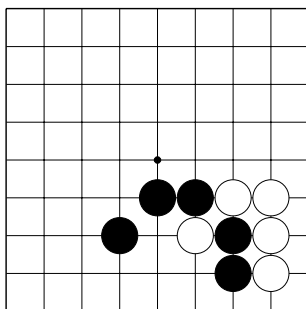
№61



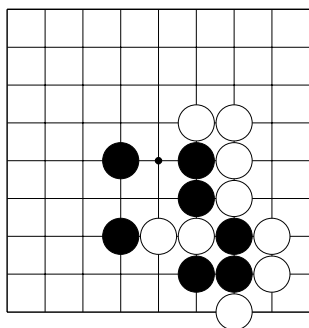
№62



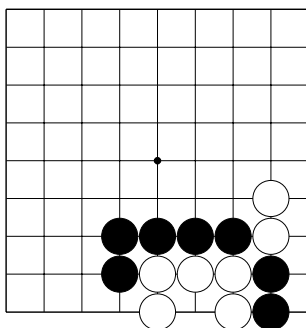
№63



№64

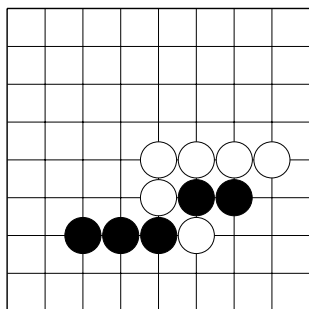


№65

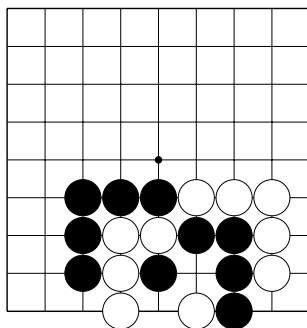


№66

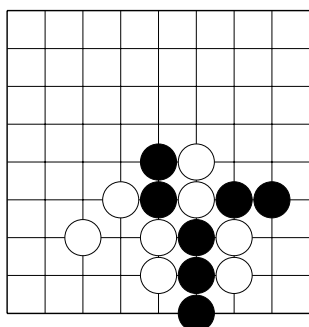
Повторение Темы №27. Сэмэй.
Найдите лучший ход чёрных.



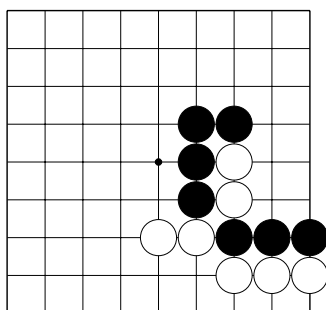
№67



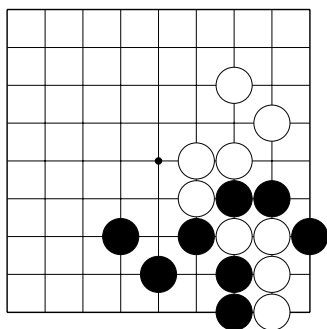
№68



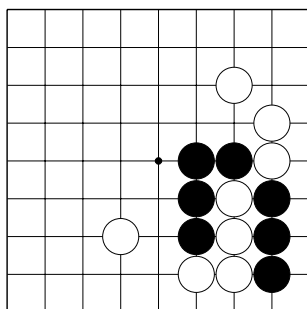
№69



№70



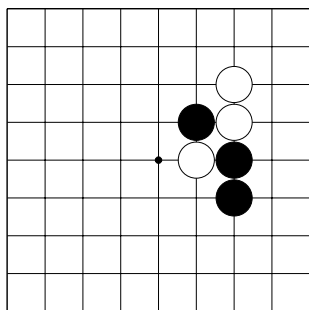
№71



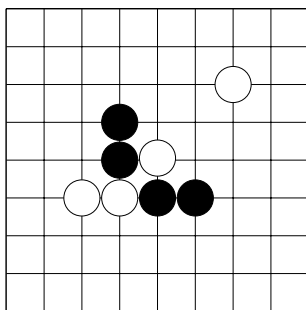
№72

Решение задач в 3 хода.

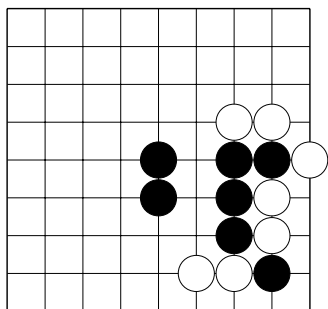
Найдите правильное решение, используя изученные приёмы.



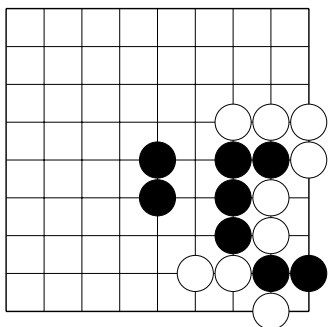
№1 “Лесенка”



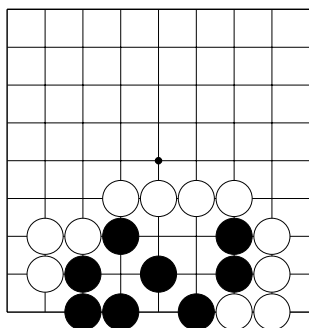
№2 “Хомутик”



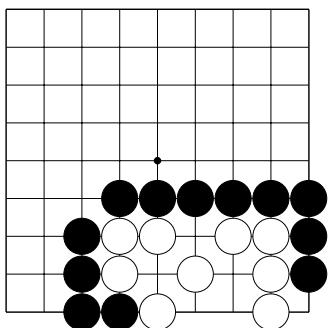
№3 Оиотоси



№4 “Защёлка”



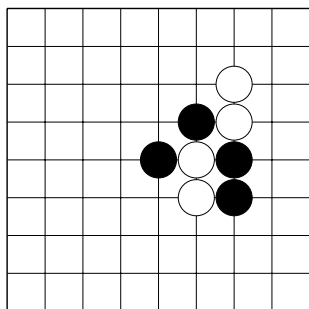
№5 Спасите чёрных



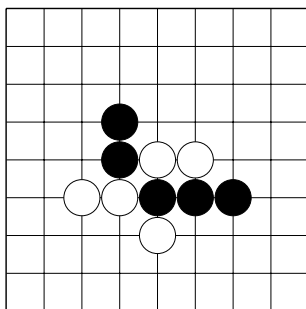
№6 Захватите белых

Решение задач в 3 хода.

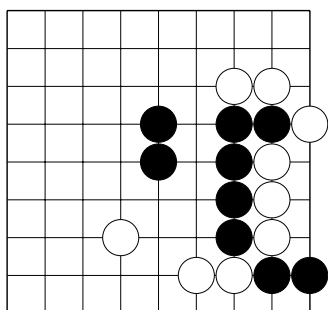
Найдите правильное решение, используя изученные приёмы.



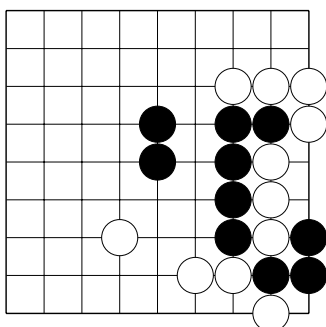
№7 “Лесенка”



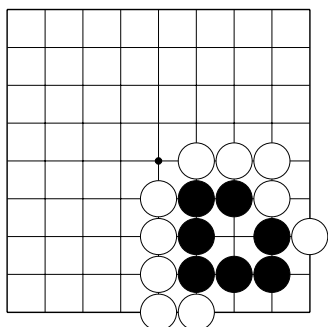
№8 “Хомутик”



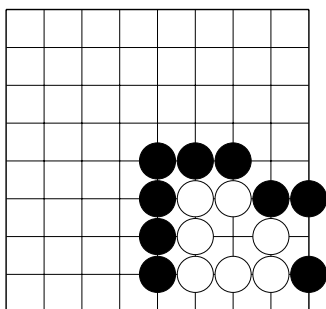
№9 Оиотоси



№10 “Защёлка”



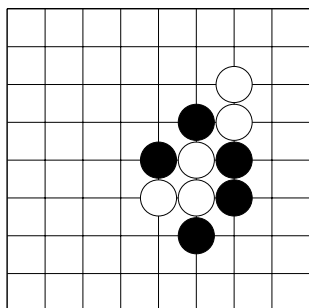
№11 Спасите чёрных



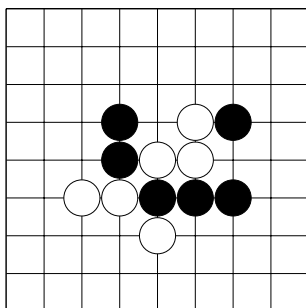
№12 Захватите белых

Решение задач в 3 хода.

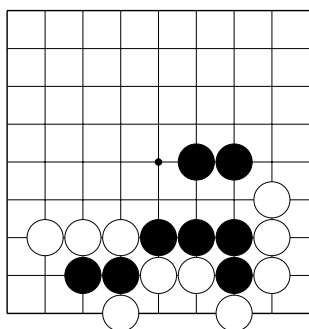
Найдите правильное решение, используя изученные приёмы.



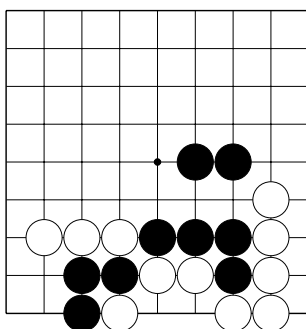
№13 “Лесенка”



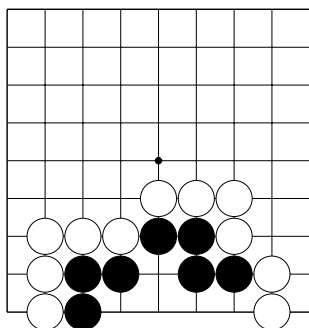
№14 “Хомутик”



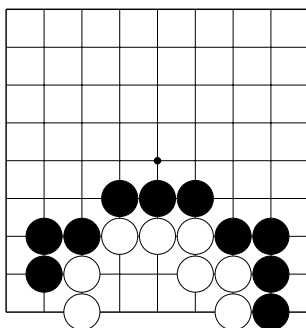
№15 Оиотоси



№16 “Защёлка”



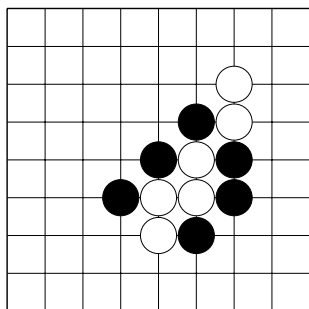
№17 Спасите чёрных



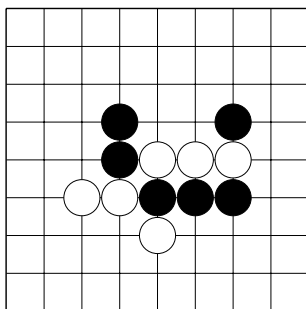
№18 Захватите белых

Решение задач в 3 хода.

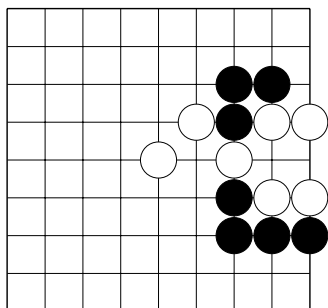
Найдите правильное решение, используя изученные приёмы.



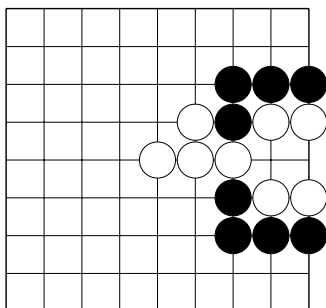
№19 “Лесенка”



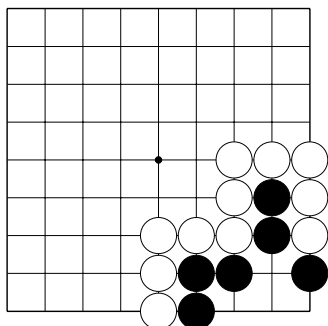
№20 “Хомутик”



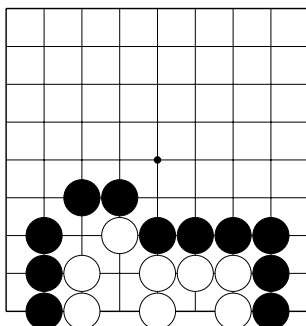
№21 Оиотоси



№22 “Защёлка”



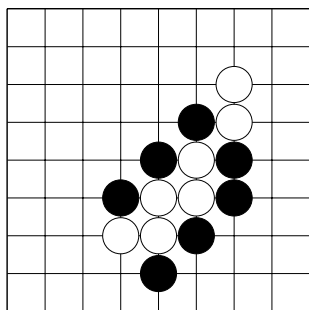
№23 Спасите чёрных



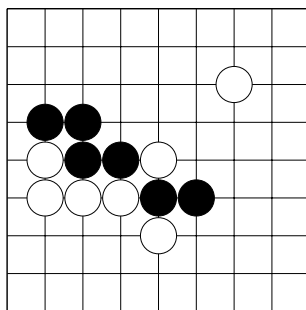
№24 Захватите белых

Решение задач в 3 хода.

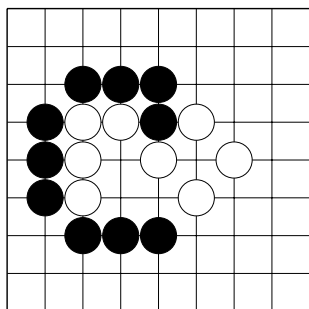
Найдите правильное решение, используя изученные приёмы.



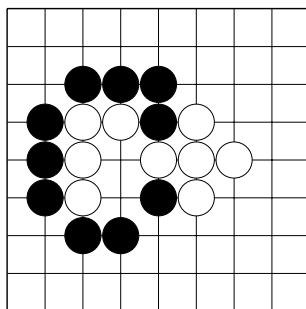
№37 “Лесенка”



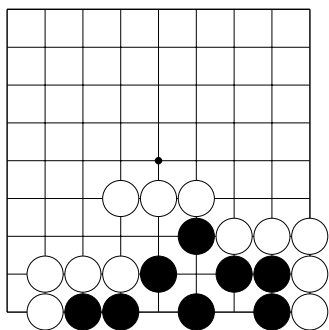
№38 “Хомутик”



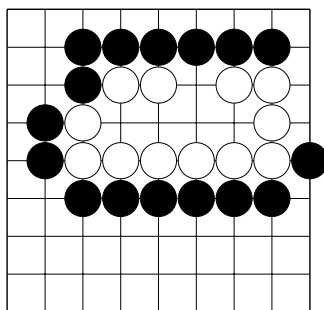
№39 Оиотоси



№40 “Защёлка”



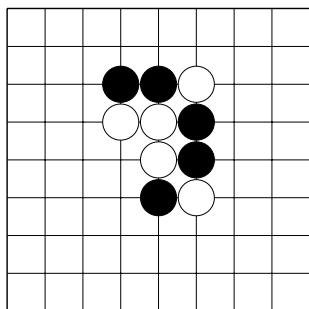
№41 Спасите чёрных



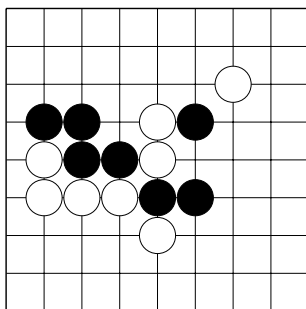
№42 Захватите белых

Решение задач в 3 хода.

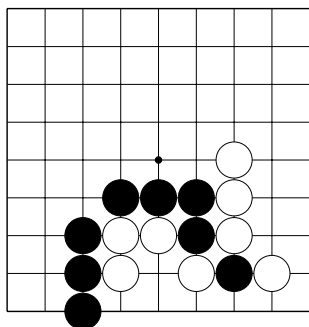
Найдите правильное решение, используя изученные приёмы.



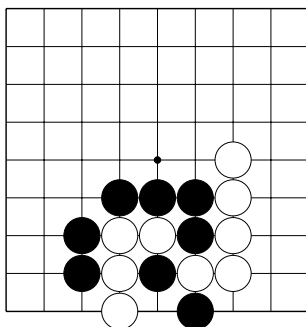
№43 “Лесенка”



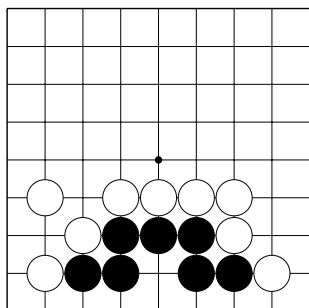
№44 “Хомутик”



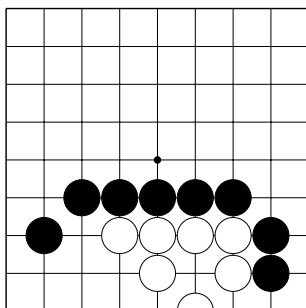
№45 Оиотоси



№46 “Защёлка”



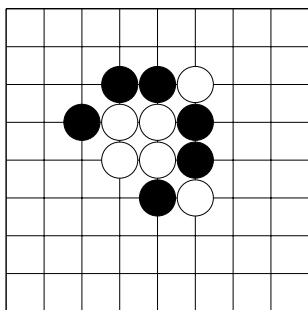
№47 Спасите чёрных



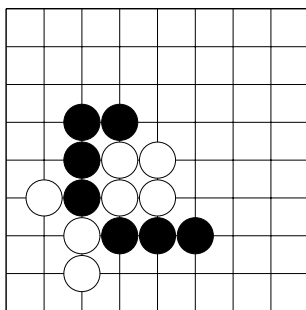
№48 Захватите белых

Решение задач в 3 хода.

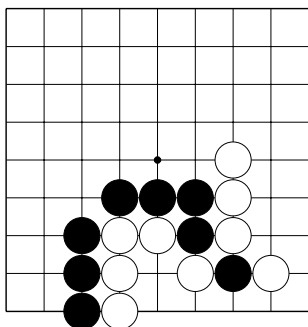
Найдите правильное решение, используя изученные приёмы.



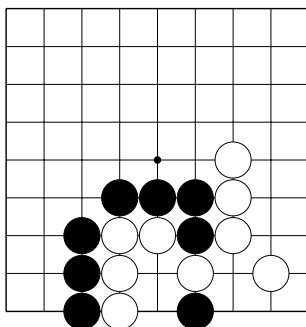
№49 “Лесенка”



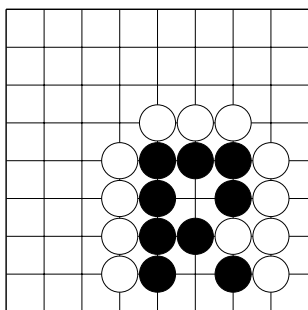
№50 “Хомутик”



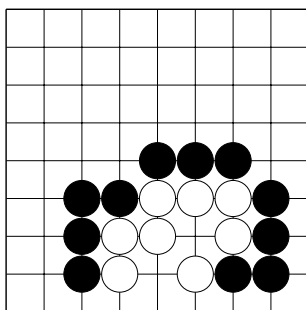
№51 Оиотоси



№52 “Защёлка”



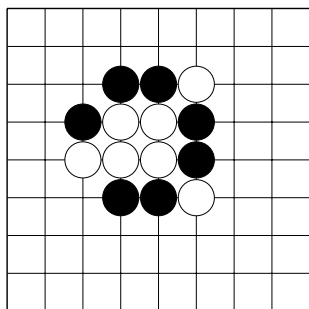
№53 Спасите чёрных



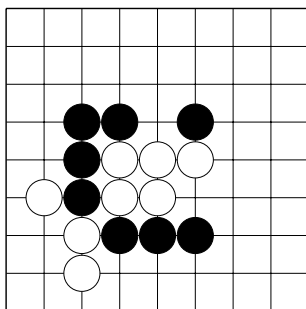
№54 Захватите белых

Решение задач в 3 хода.

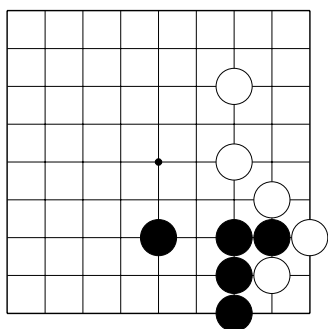
Найдите правильное решение, используя изученные приёмы.



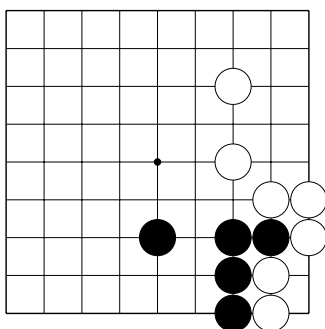
№55 “Лесенка”



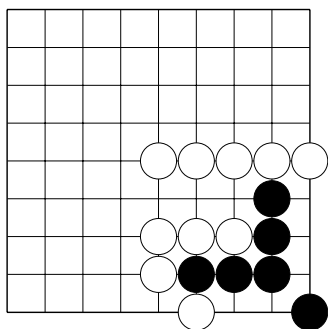
№56 “Хомутик”



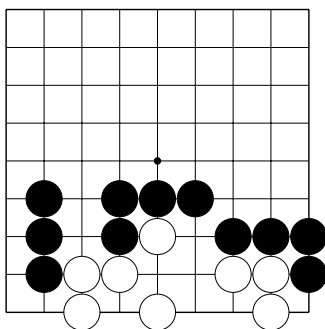
№57 Оиотоси



№58 “Защёлка”



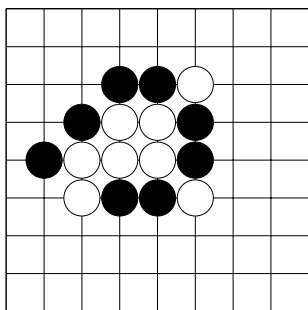
№59 Спасите чёрных



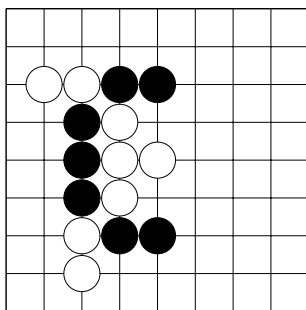
№60 Захватите белых

Решение задач в 3 хода.

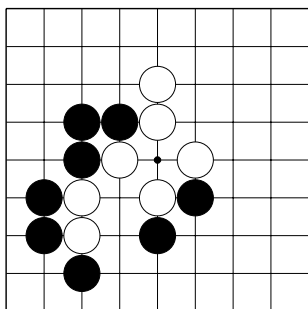
Найдите правильное решение, используя изученные приёмы.



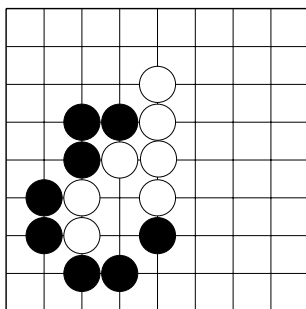
№61 “Лесенка”



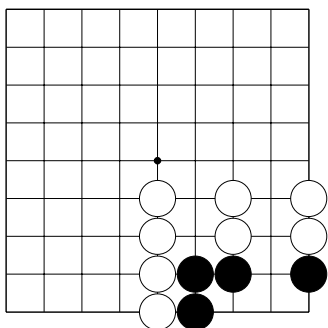
№62 “Хомутик”



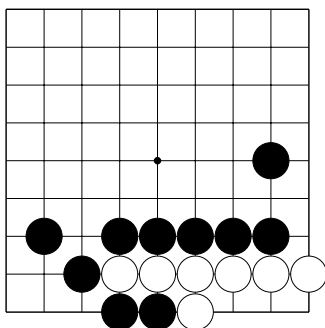
№63 Оиотоси



№64 “Защёлка”



№65 Спасите чёрных



№66 Захватите белых

Словарь терминов

Атари (яп.) – ситуация, в которой у камня или группы камней остаётся одно дамэ.

Дамэ (яп.) – liberty (англ.), 1. свободный пункт, 2. нейтральный пункт.

“Защёлка” – snapback (англ.) уттэгаэси (яп.), способ захвата камней: после жертвы одного камня, захватывается три или больше камней.

“Лесенка” – ladder (англ.), ситё (яп.), способ захвата камней, внешне похожий на ступеньки.

Оиотоси (яп.) – если камни в атари соединить, то они снова окажутся в атари.

Сэки (яп.) – обоюдная жизнь.

“Хомутик” – net (англ.) гэта (яп.), способ захвата камней, который начинается не с атари.

Цумэ-го (яп.) – задачи на жизнь и смерть.